

| N.               | DOMANDA   | N. | RISPOSTA        |
|------------------|---|----|-----------------|
| <b>GEOGRAFIA</b> |   |    |                 |
| 1                | In quale città si trova il Teatro Rossini?  | 1  | Urbino          |
|                  |   | 2  | Macerata        |
|                  |   | 3  | Pesaro          |
| 2                | In quale città si trova il Teatro dell'Aquila?  | 1  | Fermo           |
|                  |   | 2  | Offida          |
|                  |   | 3  | Ascoli Piceno   |
| 3                | In quale città si trova il Teatro Pergolesi?  | 1  | Jesi            |
|                  |   | 2  | Ancona          |
|                  |   | 3  | Macerata        |
| 4                | Quale paese è conosciuto per il Tartufo   | 1  | Gabicce Mare    |
|                  |   | 2  | Acqualagna      |
|                  |   | 3  | Senigallia      |
| 5                | Quale dei seguenti Comuni è interessato alla produzione del "Verdicchio"?                   | 1  | Fano            |
|                  |   | 2  | Jesi            |
|                  |   | 3  | Macerata        |
| 6                | Montappone è conosciuta per la produzione di  | 1  | cappelli        |
|                  |   | 2  | scarpe          |
|                  |   | 3  | fisarmoniche    |
| 7                | Campofilone è conosciuta per la produzione di   | 1  | Vino            |
|                  |   | 2  | Olive           |
|                  |   | 3  | Maccheroncini   |
| 8                | Quale città balneare è nota per la sua "rotonda sul mare"?                                  | 1  | Senigallia      |
|                  |   | 2  | Numana          |
|                  |   | 3  | Cupra Marittima |
| 9                | Montegranaro, Porto Sant'Elpidio e Sant'Elpidio a Mare sono conosciute per la produzione di | 1  | Cucine          |
|                  |   | 2  | Birra           |
|                  |   | 3  | Scarpe          |
| 10               | La città di Camerino è  | 1  | Industriale     |
|                  |   | 2  | Universitaria   |
|                  |   | 3  | Commerciale     |
| 11               | La città di Urbino è  | 1  | Universitaria   |
|                  |   | 2  | Commerciale     |
|                  |   | 3  | Industriale     |

| N. | DOMANDA  | N.          | RISPOSTA  |
|----|--|-------------|---|
| 12 | Fabriano è nota per la produzione di:  | 1<br>2<br>3 | Formaggio<br>Carta<br>Vino  |
| 13 | In quale città ha sede l'Università Politecnica delle Marche?                  | 1<br>2<br>3 | Ancona<br>Macerata<br>Ascoli Piceno   |
| 14 | Il Parco Nazionale del Gran Sasso- Monti della Laga si trova in Provincia di : | 1<br>2<br>3 | Macerata<br>Ascoli Piceno<br>Ancona   |
| 15 | In quali Regioni si estende il Parco Nazionale dei Monti Sibillini?:           | 1<br>2<br>3 | Marche-Abruzzo<br>Marche-Umbria<br>Marche-Lazio                                 |
| 16 | Il Parco Nazionale dei Monti Sibillini è compreso nelle Province di            | 1<br>2<br>3 | Pesaro Urbino ed Ancona<br>Macerata - Ascoli Piceno- Fermo<br>Ancona e Macerata |
| 17 | Qual'è la cima più alta del gruppo dei Monti Sibillini?                        | 1<br>2<br>3 | Monte Sibilla<br>Monte Priore<br>Monte Vettore                                  |
| 18 | Quale catena montuosa attraversa le Marche?                                    | 1<br>2<br>3 | Alpi<br>Appennino<br>Aspromonte   |
| 19 | In quale provincia si trova il Monte Carpegna?                                 | 1<br>2<br>3 | Ascoli Piceno<br>Pesaro e Urbino<br>Macerata                                    |
| 20 | In quale provincia si trova il Monte San Vicino?                               | 1<br>2<br>3 | Ancona<br>Macerata<br>Ascoli Piceno   |
| 21 | Dove è nato il grande pittore rinascimentale Raffaello?:                       | 1<br>2<br>3 | Osimo<br>Urbino<br>Novafeltria  |

| N. | DOMANDA  | N. | RISPOSTA  |
|----|--|----|---|
| 22 | In quale provincia si trova il Monte Vettore?  | 1  | Ascoli Piceno                                     |
|    |  | 2  | Pesaro e Urbino                                   |
|    |  | 3  | Macerata  |
| 23 | In quale provincia si trova il Monte Conero?   | 1  | Macerata  |
|    |  | 2  | Ancona  |
|    |  | 3  | Ascoli Piceno                                     |
| 24 | Un grande seminario mariano in una località di montagna mantiene mantiene nei suoi dipinti il ricordo della leggendaria Sibilla? | 1  | Santuario dell'Ambro e Montefortino               |
|    |  | 2  | Santuario di Macereta a Visso                     |
|    |  | 3  | Santuario di Santa Maria delle Vergini a Macerata |
| 25 | Quale di questi Comuni nella cui rocca fu anche imprigionato Cagliostro non fa parte delle Marche?:                              | 1  | Corridonia  |
|    |  | 2  | San Leo   |
|    |  | 3  | San Severino Marche                               |
| 26 | Quale dei seguenti fiumi scorre in territorio marchigiano?   | 1  | Sesia   |
|    |  | 2  | Metauro   |
|    |  | 3  | Topino  |
| 27 | Il fiume Aso si trova nella provincia di   | 1  | Ascoli Piceno                                     |
|    |  | 2  | Ancona  |
|    |  | 3  | Pesaro e Urbino                                   |
| 28 | Quale Signoria dominò per tre secoli la città di Camerino?:  | 1  | Da Varano   |
|    |  | 2  | Malatesta   |
|    |  | 3  | Montefeltro                                       |
| 29 | Il fiume Tronto si trova nella provincia di  | 1  | Macerata  |
|    |  | 2  | Ascoli Piceno                                     |
|    |  | 3  | Ancona  |
| 30 | Il fiume Chienti si trova nella provincia di   | 1  | Pesaro e Urbino                                   |
|    |  | 2  | Macerata  |
|    |  | 3  | Ancona  |
| 31 | Il fiume Tenna si trova nella provincia di   | 1  | Macerata  |
|    |  | 2  | Fermo   |
|    |  | 3  | Ancona  |

| N. | DOMANDA  | N.          | RISPOSTA   |
|----|--|-------------|--|
| 32 | Il fiume Potenza si trova nella provincia di   | 1<br>2<br>3 | Ascoli Piceno<br>Macerata<br>Pesaro e Urbino                   |
| 33 | Il fiume Esino si trova nella provincia di   | 1<br>2<br>3 | Macerata<br>Ancona<br>Ascoli Piceno                            |
| 34 | Il fiume Metauro si trova nella provincia di   | 1<br>2<br>3 | Ancona<br>Pesaro e Urbino<br>Macerata                          |
| 35 | Il fiume Marecchia si trova nella provincia di   | 1<br>2<br>3 | Ancona<br>Pesaro e Urbino<br>Ascoli Piceno                     |
| 36 | Da quale lago ha origine il fiume Esino?   | 1<br>2<br>3 | Lago Trasimeno<br>Lago di Fiastra<br>Non ha origine da un lago |
| 37 | In quale provincia si trova il Lago di Fiastra?  | 1<br>2<br>3 | Ancona<br>Macerata<br>Ascoli Piceno                            |
| 38 | In quale provincia si trova il Lago di Polverina?                                      | 1<br>2<br>3 | Ancona<br>Macerata<br>Ascoli Piceno                            |
| 39 | Il lago di Pilato si trova nelle vicinanze di un noto monte marchigiano. Quale?        | 1<br>2<br>3 | Monte San Vicino<br>Monte Carpegna<br>Monte Vettore            |
| 40 | In quale città è possibile visitare il gruppo equestre dei bronzi dorati di Cartoceto? | 1<br>2<br>3 | Ascoli Piceno<br>Pergola<br>Recanati                           |
| 41 | In quale città si trova il Palazzo dei Duchi di Montefeltro?                           | 1<br>2<br>3 | Ancona<br>Urbino<br>Camerino                                   |
| 42 | L'Arco di Augusto di epoca romana si trova nella città di                              | 1<br>2<br>3 | Cagli<br>Fano<br>Novafeltria                                   |

| N. | DOMANDA   | N.          | RISPOSTA   |
|----|---|-------------|--|
| 43 | In quale città si trova l'Arena Sferisterio?  | 1<br>2<br>3 | Macerata<br>Tolentino<br>San Severino Marche     |
| 44 | In quale città è nato il poeta Giacomo Leopardi?  | 1<br>2<br>3 | Recanati<br>Pesaro<br>Fabriano                   |
| 45 | In quale città si trova il "Museo Archeologico Nazionale delle Marche"?                           | 1<br>2<br>3 | Ascoli Piceno<br>Ancona<br>Pesaro                |
| 46 | In quale città si trova il Museo della carta e della Filigrana?                                   | 1<br>2<br>3 | Fabriano<br>Fermo<br>Ancona                      |
| 47 | In quale Comune si trova l'ippodromo San Paolo per le corse al trotto?                            | 1<br>2<br>3 | Porto San Giorgio<br>Montegiorgio<br>Servigliano |
| 48 | In quale Provincia marchigiana si trovava la Rocca di San Leo prima di passare all'Emilia Romagna | 1<br>2<br>3 | Ancona<br>Pesaro e Urbino<br>Ascoli Piceno       |
| 49 | In quale Città si trova l'arco di Traiano   | 1<br>2<br>3 | Ancona<br>Pesaro e Urbino<br>Macerata            |
| 50 | Quale città marchigiana vanta un'origine greca?   | 1<br>2<br>3 | Ancona<br>Pesaro e Urbino<br>Macerata            |
| 51 | Dove si trova la Basilica della Santa Casa?   | 1<br>2<br>3 | Ancona<br>Urbino<br>Loreto                       |

| N. | DOMANDA  | N.          | RISPOSTA   |
|----|--|-------------|--|
| 52 | In quale comune si trova la chiesa di Santa Maria della Rocca?                 | 1<br>2<br>3 | Petritoli<br>Offida<br>Comunanza                       |
| 53 | In quale città si trova la cattedrale di San Ciriaco?                          | 1<br>2<br>3 | Ascoli Piceno<br>Ancona<br>Pesaro                      |
| 54 | In quale città si trova l'Ospedale generale provinciale "C. e G. Mazzoni"?     | 1<br>2<br>3 | Macerata<br>Ascoli Piceno<br>Pesaro                    |
| 55 | In quale città si trova lo Stadio "del Conero"?                                | 1<br>2<br>3 | Ancona<br>Macerata<br>Ascoli Piceno                    |
| 56 | Dove si trova l'aeroporto Raffaello Sanzio?                                    | 1<br>2<br>3 | Pesaro<br>Ancona-Falconara<br>San Benedetto del Tronto |
| 57 | Quale di queste non è una località scistica della Regione:                     | 1<br>2<br>3 | Sassotetto<br>Matelica<br>Monte Prata                  |
| 58 | In quale città si tiene il Rossini Opera Festival?                             | 1<br>2<br>3 | Macerata<br>Pesaro<br>Fabriano                         |
| 59 | Il "Palio dell'Assunta" è una rievocazione storica che si tiene nel Comune di  | 1<br>2<br>3 | Offida<br>Fermo<br>Sarnano                             |
| 60 | La "Contesa del secchio" è una rievocazione storica che si tiene nel Comune di | 1<br>2<br>3 | Montegiorgio<br>Sant'Elpidio a Mare<br>Montecosaro     |
| 61 | Quale Pontefice è nato nelle Marche  | 1<br>2<br>3 | Sisto V<br>Bonifacio VIII<br>Giovanni XXIII            |

| N. | DOMANDA  | N.          | RISPOSTA   |
|----|--|-------------|--|
| 62 | Quale città è legata a due date fondamentali della dominazione napoleonica in Italia: la firma di un trattato e l'ultima battaglia di Gioacchino Murat         | 1<br>2<br>3 | Arcevia<br>Macerata<br>Tolentino                       |
| 63 | Nello stemma della Regione Marche è raffigurato il simbolo   | 1<br>2<br>3 | Il picchio<br>La quercia<br>Il mare                    |
| 64 | Quale Santo è venerato da molte città marchigiane come protettore del terremoto  | 1<br>2<br>3 | S. Emidio<br>S. Venanzio<br>S. Ciriaco                 |
| 65 | Quale lago della Regione è noto per la sua origine glaciale?   | 1<br>2<br>3 | Lago di Fiastra<br>Lago di Pilato<br>Lago di Polverina |
| 66 | Quale di queste regioni confina con la parte sud delle Marche:   | 1<br>2<br>3 | Toscana<br>Umbria<br>Abruzzo                           |
| 67 | Con quale provincia marchigiana confina la Repubblica di San Marino?   | 1<br>2<br>3 | Pesaro e Urbino<br>Macerata<br>Ascoli Piceno           |
| 68 | Quale dei seguenti Comuni non è situato nell'area del "Conero"?  | 1<br>2<br>3 | Portonovo<br>Sirolo<br>Senigallia                      |
| 69 | lo scenografo di Fellini, Tonino Guerra è andato ad abitare in un Comune della Provincia di Pesaro-Urbino che oggi si trova nella Provincia di Rimini. Qual è? | 1<br>2<br>3 | Gabicce Mare<br>Pennabilli<br>Urbania                  |
| 70 | Quale dei seguenti Comuni non si trova nella provincia di Ascoli Piceno?   | 1<br>2<br>3 | Tolentino<br>Offida<br>S. Benedetto del Tronto         |

| N. | DOMANDA   | N.          | RISPOSTA  |
|----|---|-------------|---|
| 71 | In quale Provincia di trova il Comune di Montefortino?  | 1<br>2<br>3 | Ancona<br>Pesaro e Urbino<br>Fermo                                    |
| 72 | In quale provincia di trova il Comune di Osimo?   | 1<br>2<br>3 | Ancona<br>Pesaro e Urbino<br>Macerata                                 |
| 73 | Quale dei seguenti Comuni non si trova nella provincia di Fermo?                                      | 1<br>2<br>3 | Belmonte Piceno<br>Falerone<br>Urbania                                |
| 74 | In quale provincia di trova la valle del Fiume Tronto?  | 1<br>2<br>3 | Pesaro e Urbino<br>Macerata<br>Ascoli Piceno                          |
| 75 | Il territorio della Regione Marche è prevalentemente:   | 1<br>2<br>3 | Montuoso<br>Collinare<br>Pianeggiante                                 |
| 76 | Quale fiume costituisce prevalentemente il confine naturale tra le Province di Ascoli Piceno e Fermo? | 1<br>2<br>3 | Tenna<br>Aso<br>Esino   |
| 77 | Quale Regione unisce il passo di Forcacanapine?   | 1<br>2<br>3 | Marche-Umbria<br>Marche-Toscana<br>Marche-Campania                    |
| 78 | In quale Comune si trovano le Grotte di Frasassi?   | 1<br>2<br>3 | Fabriano<br>Genga<br>Jesi   |
| 79 | Una delle seguenti Regioni non confina con le Marche. Quale?  | 1<br>2<br>3 | Lazio<br>Abruzzo<br>Molise  |
| 80 | Quale dei seguenti Comuni non si trova sul mare?  | 1<br>2<br>3 | Porto Sant'Elpidio<br>San Benedetto del Tronto<br>Sant'Elpidio a Mare |



| N. | DOMANDA   | N.          | RISPOSTA  |
|----|---|-------------|---|
| 81 | Il Monte Sibilla è alto   | 1<br>2<br>3 | 2173 metri sul livello del mare<br>1070 metri sul livello del mare<br>1701 metri sul livello del mare |
| 82 | Il Monte Vettore è alto   | 1<br>2<br>3 | 2476 metri sul livello del mare<br>3511 metri sul livello del mare<br>1944 metri sul livello del mare |
| 83 | Quale di queste città non ha il porto   | 1<br>2<br>3 | S.Benedetto del Tronto<br>Ancona<br>Urbino  |
| 84 | Quale dei passi appenninici separa la Provincia di Pesaro e Urbino dall'Umbria?   | 1<br>2<br>3 | Tonale<br>Colfiorito<br>Scheggia  |
| 85 | Quale dei passi appenninici separa la Provincia di Pesaro e Urbino dalla Toscana? | 1<br>2<br>3 | Bocca Serriola<br>Bocca Trabaria<br>Scheggia  |
| 86 | Il passo di Scheggia collega le Marche con  | 1<br>2<br>3 | l'Umbria<br>la Toscana<br>L'Emilia  |
| 87 | Il passo di Bocca Trabaria collega le Marche con                                  | 1<br>2<br>3 | l'Umbria<br>la Toscana<br>l'Emilia  |
| 88 | Quale tipico andamento hanno i fiumi marchigiani?                                 | 1<br>2<br>3 | Nord - Sud<br>NordOvest - SudEst<br>Ovest - Est   |
| 89 | Uno dei tre fiumi indicati non scorre in territorio marchigiano. Quale?           | 1<br>2<br>3 | Potenza<br>Ticino<br>Esino  |
| 90 | Quale, dei tre territori indicati, confina con le Marche ad occidente?            | 1<br>2<br>3 | Emilia Romagna<br>Toscana<br>Repubblica di San Marino   |
| 91 | La riviera delle Palme a  | 1<br>2<br>3 | Senigallia<br>Sirolo<br>San Bedetto del Tronto  |

| <b>N.</b> | <b>DOMANDA</b>   | <b>N.</b> | <b>RISPOSTA</b>        |
|-----------|--|-----------|------------------------|
| 92        | Quante sono le Province Marchigiane  | 1         | 3                      |
|           |  | 2         | 5                      |
|           |  | 3         | 4                      |
| 93        | Quale dei seguenti Comuni delle Marche è situato nell'area del "Conero"?         | 1         | Ancona                 |
|           |  | 2         | Falconara              |
|           |  | 3         | Loreto                 |
| 94        | Quale delle seguenti città non è bagnata dal mare?                               | 1         | Falconara              |
|           |  | 2         | Marotta                |
|           |  | 3         | Cingoli                |
| 95        | Quale delle seguenti città è sprovvista di stazione ferroviaria?                 | 1         | Fabriano               |
|           |  | 2         | Urbino                 |
|           |  | 3         | Senigallia             |
| 96        | Quale delle seguenti città non possiede una stazione ferroviaria?                | 1         | Porto San Giorgio      |
|           |  | 2         | Grottammare            |
|           |  | 3         | Fermo                  |
| 97        | Quale di queste valli non appartiene alla Regione Marche                         | 1         | Val Metauro            |
|           |  | 2         | Valle del Tronto       |
|           |  | 3         | Val Brembana           |
| 98        | Quale gola è caratterizzata dalla presenza delle più famose grotte marchigiane?  | 1         | Gola del Furlo         |
|           |  | 2         | Gola di Frasassi       |
|           |  | 3         | Gola dell'Infernaccio  |
| 99        | A quale epoca risale la prima costruzione delle gola del Furlo                   | 1         | epoca romana           |
|           |  | 2         | epoca medievale        |
|           |  | 3         | ventennio fascista     |
| 100       | In quale provincia si trova la Gola del Furlo?                                   | 1         | Pesaro e Urbino        |
|           |  | 2         | Macerata               |
|           |  | 3         | Ascoli Piceno          |
| 101       | La gola dell'Infernaccio si trova in un noto gruppo montuoso marchigiano. Quale? | 1         | Catena dei Sibillini   |
|           |  | 2         | Catena del Montefeltro |
|           |  | 3         | Catena del San Vicino  |

| N.                   | DOMANDA  | N.   | RISPOSTA |
|----------------------|--|--|----------|
| <b>TOPONOMASTICA</b> |  |  |          |
| 102                  | Che distanza c'è tra Montegiorgio e Porto San Giorgio?         | <b>1</b> km. 15<br><b>2</b> km. 55<br><b>3</b> km. 27    |          |
| 103                  | Quanti chilometri intercorrono fra Ancona e Ascoli Piceno?     | <b>1</b> km. 124<br><b>2</b> km. 150<br><b>3</b> km. 140 |          |
| 104                  | Che distanza c'è fra Ascoli Piceno e San Benedetto del Tronto? | <b>1</b> km. 39<br><b>2</b> km. 78<br><b>3</b> km. 46    |          |
| 105                  | Che distanza c'è fra Porto San Giorgio e Porto d'Ascoli?       | <b>1</b> km. 40<br><b>2</b> km. 80<br><b>3</b> km. 90    |          |
| 106                  | Che distanza c'è fra Ascoli Piceno e Amandola?                 | <b>1</b> km. 90<br><b>2</b> km. 40<br><b>3</b> km. 80    |          |
| 107                  | Che distanza c'è fra Ascoli Piceno e Fermo?                    | <b>1</b> km. 72<br><b>2</b> km. 85<br><b>3</b> km. 20    |          |
| 108                  | Che distanza c'è fra Fermo e Pedaso?                           | <b>1</b> km. 17<br><b>2</b> km. 59<br><b>3</b> km. 80    |          |
| 109                  | Che distanza c'è fra Macerata e Sarnano?                       | <b>1</b> km. 80<br><b>2</b> km. 40<br><b>3</b> km. 59    |          |
| 110                  | Che distanza c'è fra Macerata e San Severino?                  | <b>1</b> km. 30<br><b>2</b> km. 10<br><b>3</b> km. 43    |          |
| 111                  | Che distanza c'è fra Macerata e Civitanova Marche?             | <b>1</b> km. 15<br><b>2</b> km. 29<br><b>3</b> km. 45    |          |

| N.  | DOMANDA  | N. | RISPOSTA |
|-----|--|----|----------|
| 112 | Che distanza c'è fra Macerata e Porto Recanati?                | 1  | km. 20   |
|     |  | 2  | km. 29   |
|     |  | 3  | km. 48   |
| 113 | Che distanza c'è fra Ancona e Jesi?                            | 1  | km. 40   |
|     |  | 2  | km. 32   |
|     |  | 3  | km. 50   |
| 114 | Che distanza c'è fra Fermo e Montefortino?                     | 1  | km. 100  |
|     |  | 2  | km. 53   |
|     |  | 3  | km. 80   |
| 115 | Che distanza c'è fra Fermo e Monterubbiano?                    | 1  | km. 12   |
|     |  | 2  | km. 50   |
|     |  | 3  | km. 40   |
| 116 | Che distanza c'è fra Falerone e Montappone?                    | 1  | km. 80   |
|     |  | 2  | km. 6    |
|     |  | 3  | km. 35   |
| 117 | Che distanza c'è fra Ancona e Loreto?                          | 1  | km. 40   |
|     |  | 2  | km. 31   |
|     |  | 3  | km. 37   |
| 118 | Che distanza c'è fra Ancona e l'Aeroporto di Ancona-Falconara? | 1  | km. 18   |
|     |  | 2  | km. 27   |
|     |  | 3  | km. 25   |
| 119 | Che distanza c'è fra Pesaro e Fano?                            | 1  | km. 20   |
|     |  | 2  | km. 11   |
|     |  | 3  | km. 25   |
| 120 | Che distanza c'è fra Pesaro e Pergola?                         | 1  | km. 57   |
|     |  | 2  | km. 84   |
|     |  | 3  | km. 70   |
| 121 | Che distanza c'è fra Fermo e Ancona?                           | 1  | km. 69   |
|     |  | 2  | km. 25   |
|     |  | 3  | km. 150  |
| 122 | Che distanza c'è fra Pesaro e San Benedetto del Tronto?        | 1  | km. 105  |
|     |  | 2  | km. 149  |
|     |  | 3  | km. 180  |

| N.  | DOMANDA   | N. | RISPOSTA |
|-----|---|----|----------|
| 123 | Che distanza c'è fra Pesaro e Urbino?                             | 1  | km. 52   |
|     |   | 2  | km. 36   |
|     |   | 3  | km. 63   |
| 124 | Che distanza c'è tra Pergola e Fano?                              | 1  | km. 46   |
|     |   | 2  | km. 74   |
|     |   | 3  | km. 28   |
| 125 | Quanti chilometri intercorrono tra Urbino e Fano?                 | 1  | km. 58   |
|     |   | 2  | km. 48   |
|     |   | 3  | km. 31   |
| 126 | Che distanza c'è fra Macerata e Jesi?                             | 1  | km. 43   |
|     |   | 2  | km. 84   |
|     |   | 3  | km. 70   |
| 127 | Quanti chilometri intercorrono fra Ancona e Macerata?             | 1  | km. 155  |
|     |   | 2  | km. 70   |
|     |   | 3  | km. 60   |
| 128 | Quanti chilometri intercorrono tra Pesaro e Cagli?                | 1  | km. 61   |
|     |   | 2  | km. 86   |
|     |   | 3  | km. 45   |
| 129 | Che distanza c'è tra Ancona e Fabriano?                           | 1  | km. 74   |
|     |   | 2  | km. 45   |
|     |   | 3  | km. 31   |
| 130 | Che distanza c'è tra Ancona e Pesaro?                             | 1  | km. 76   |
|     |   | 2  | km. 120  |
|     |   | 3  | km. 35   |
| 131 | Che distanza c'è tra Civitanova Marche e S. Benedetto del Tronto? | 1  | km. 60   |
|     |   | 2  | km. 22   |
|     |   | 3  | km. 48   |
| 132 | Che distanza c'è tra Ancona e Urbino?                             | 1  | km. 113  |
|     |   | 2  | km. 50   |
|     |   | 3  | km. 45   |

| N.  | DOMANDA   | N.          | RISPOSTA  |
|-----|---|-------------|---|
| 133 | Che distanza c'è fra Amandola e Fermo?  | 1<br>2<br>3 | km. 35<br>km. 70<br>km. 48  |
| 134 | Per andare da Ancona a Macerata senza passare per l'autostrada quale tracciato segui? | 1<br>2<br>3 | Ancona-Porto Civitanova-Macerata<br>Ancona-Osimo-Macerata<br>Ancona-Recanati-Macerata   |
| 135 | Per andare da Ancona a Pesaro qual'è il percorso più breve?                           | 1<br>2<br>3 | La Statale n.16<br>L'Autostrada A/14<br>La Statale n.76   |
| 136 | Quali delle seguenti città non è attraversata dalla strada Salaria?                   | 1<br>2<br>3 | Acquasanta Terme<br>Montalto delle Marche<br>Ascoli Piceno  |
| 137 | Quali delle seguenti città non è attraversata dalla strada Flaminia?                  | 1<br>2<br>3 | Fano<br>Fossombrone<br>Urbania  |
| 138 | Come si chiama la strada che collega Ascoli Piceno a San Benedetto del Tronto?        | 1<br>2<br>3 | Stada Statale n. 210 Fermana Faleriense<br>Raccordo autostradale 11 Ascoli - Porto D'Ascoli<br>Stada provinciale 12 Corinaldese |
| 139 | Come si chiama la strada che collega Pesaro a Urbino?                                 | 1<br>2<br>3 | Flaminia<br>N.423 Urbinate<br>Salaria   |
| 140 | Come si chiama la strada che collega Osimo a Macerata?                                | 1<br>2<br>3 | Strada Statale n.76<br>Stada Statale n. 361 Septempedana<br>Strada Statale n. 77 Val di Chienti                                 |

| N.  | DOMANDA   | N. | RISPOSTA                                   |
|-----|---|----|--|
| 141 | Quale strada collega Ancona a Fabriano?                               | 1  | Stada Statale n. 360 Arcevese              |
|     |   | 2  | Strada statale n.76                        |
|     |   | 3  | Stada statale n. 16 Adriatica              |
| 142 | La Statale Adriatica n.16 collega                                     | 1  | Pesaro-Ancona                              |
|     |   | 2  | Ancona-Fabriano                            |
|     |   | 3  | Osimo-Macerata                             |
| 143 | Come si chiama la strada che collega Porto San Giorgio a Servigliano? | 1  | Stada Statale n. 210 Faleriense Faleriense |
|     |   | 2  | Strada provinciale n. 43 Mezzina           |
|     |   | 3  | Pompeiana                                  |
| 144 | Quale antica strada romana collega Roma ad Ascoli Piceno?             | 1  | Via Appia                                  |
|     |   | 2  | Via Salaria                                |
|     |   | 3  | Via Flaminia                               |
| 145 | Quale strada collega Porto Civitanova a Macerata?                     | 1  | Stada Statale n. 16 Adriatica              |
|     |   | 2  | Strada Statale n.485 Corridonia-Maceratese |
|     |   | 3  | Strada statale 4 Salaria                   |
| 146 | Come si chiama la strada che collega Porto Recanati a Macerata?       | 1  | Strada Statale n. 361 Septempedana         |
|     |   | 2  | Strada Statale n. 571 Helvia Recina        |
|     |   | 3  | Statale Adriatica n.16                     |
| 147 | Come si chiama la strada che collega Fermo a Servigliano?             | 1  | Strada provinciale 48 Montappone           |
|     |   | 2  | Stada Statale n. 210 Faleriense Faleriense |
|     |   | 3  | Strada provinciale 26 Delle Fratte         |

| N. | DOMANDA | N. | RISPOSTA |
|----|---------|----|----------|
|----|---------|----|----------|

**NORME COMPORTAMENTALI**

**148** Quali sono i documenti obbligatori per poter sostenere gli esami di abilitazione professionale?

- 1 Patente cat. D
- 2 Patente cat. B e CAP
- 3 Patente cat. CAP

**149** E' possibile per un tempo definito o per un viaggio determinato sostituire il titolare di licenza?

- 1 Si è sufficiente che il sostituto abbia i requisiti morali
- 2 No, mai
- 3 Si, se il sostituto è in possesso dei requisiti professionali e morali

**150** In caso di intemperanze da parte di un cliente quale deve essere il comportamento del tassista?

- 1 Disinteresse
- 2 Chiamare le forze dell'ordine
- 3 Reagire personalmente

**151** Quale Ente decide dove far sostare i taxi?

- 1 Provincia
- 2 Regione
- 3 Comune

**152** In caso di intemperanze da parte di un cliente quale deve essere il comportamento del tassista?

- 1 Disinteresse
- 2 Chiamare le forze dell'ordine
- 3 Reagire personalmente

**153** Quale ente decide dove far sostare i taxi?

- 1 Provincia
- 2 Regione
- 3 Comune



| N.  | DOMANDA   | N.          | RISPOSTA  |
|-----|---|-------------|---|
| 154 | Come vengono applicate le tariffe per il servizio urbano?   | 1<br>2<br>3 | A tariffa multipla<br>A tariffa chilometrica<br>A secondo del percorso  |
| 155 | L'uso delle corsie preferenziali:   | 1<br>2<br>3 | E' consentito<br>Non è consentito<br>E' consentito solo quando ci si accinge a particolari manovre              |
| 156 | Il tassista può rifiutare una corsa urbana?   | 1<br>2<br>3 | Si<br>No<br>Facoltativo   |
| 157 | Nei comuni di minori dimensioni, le autovetture adibite a taxi possono essere esonerate dall'obbligo del tassametro?  | 1<br>2<br>3 | Si<br>No<br>Solo se autorizzati dalla Prefettura  |
| 158 | Le prenotazioni di trasporto per il servizio N.C.C. con mezzi tecnologici possono essere fatte:   | 1<br>2<br>3 | direttamente al conducente del veicolo<br>presso la rimessa o la sede del servizio<br>presso agenzie di viaggio |
| 159 | Al titolare che abbia trasferito la licenza, può esserne attribuita un'altra?   | 1<br>2<br>3 | Si sempre<br>Si purchè siano trascorsi 5 anni dal trasferimento della prima<br>No mai                           |
| 160 | L'IVA riscossa senza emettere fattura può essere trattenuta dal tassista?   | 1<br>2<br>3 | Si<br>No<br>Solo per i non residenti  |
| 161 | Quando sia intervenuta condanna con sentenza passata in giudicato, per delitti non colposi a pena restrittiva della libertà personale per una pena superiore a 2 anni, in capo al titolare della licenza o dell'autorizzazione, il Comune procede a | 1<br>2<br>3 | Revocare la licenza o l'autorizzazione<br>Diffida<br>Sospendere la licenza o l'autorizzazione                   |

| N.  | DOMANDA   | N. | RISPOSTA   |
|-----|---|----|--|
| 162 | In merito allo svolgimento del servizio urbano in presenza di neve o ghiaccio:  | 1  | Il tassista deve espletare il servizio                                 |
|     |   | 2  | Il tassista non deve espletare il servizio                             |
|     |   | 3  | E' facoltativo per il tassista espletare il servizio                   |
| 163 | Mutare l'indirizzo della rimessa e della sede, nell'ambito del territorio comunale, senza dare prescritta comunicazione al Sindaco è motivo di..  | 1  | Decadenza della licenza o dell'autorizzazione                          |
|     |   | 2  | Diffida  |
|     |   | 3  | Revoca della licenza o dell'autorizzazione.                            |
| 164 | Il tassista può rifiutare una corsa extraurbana?  | 1  | Si   |
|     |   | 2  | No   |
|     |   | 3  | Solo se supera i 50 Km di distanza                                     |
| 165 | Chi dispone annualmente le verifiche sulla idoneità dei mezzi in servizio di taxi e n.c.c.?   | 1  | L'Amministrazione Comunale   |
|     |   | 2  | L'Amministrazione Provinciale  |
|     |   | 3  | Gli organi della Motorizzazione  |
| 166 | Qual è l'autorizzazione che permette di esercitare l'attività di tassista?  | 1  | Licenza di Questura  |
|     |   | 2  | Licenza Motorizzazione Civile  |
|     |   | 3  | Comune   |
| 167 | L'utilizzo, per il servizio, di veicoli diversi da quelli autorizzati è motivo di   | 1  | Revoca della licenza o dell'autorizzazione.                            |
|     |   | 2  | Sospensione della licenza o dell'autorizzazione.                       |
|     |   | 3  | Decadenza di licenza o dell'autorizzazione                             |
| 168 | L'aver esercitato servizio di taxi in qualità di sostituto alla guida del titolare della licenza per un periodo di tempo complessivo di almeno 6 mesi, costituisce titolo preferenziale ai fini del rilascio della licenza per l'esercizio di taxi? | 1  | Si   |
|     |   | 2  | No   |
|     |   | 3  | Sì, ma sono necessari 12 mesi di sostituzione alla guida del titolare. |

| N.  | DOMANDA  | N. | RISPOSTA  |
|-----|--|----|---|
| 169 | Relativamente al carico dei passeggeri:  | 1  | Il tassista può trasportare un numero di persone compreso nel limite massimo dei posti consentito dalle caratteristiche dell'autoveicolo  |
|     |  | 2  | Il tassista può trasportare un numero di persone superiore al limite massimo dei posti consentito dalle caratteristiche dell'autoveicolo  |
|     |  | 3  | Il tassista può trasportare un numero di persone superiore al limite massimo dei posti consentito dalle caratteristiche dell'autoveicolo solo per tragitti di breve percorrenza |
| 170 | Dove avviene lo stazionamento dei taxi?  | 1  | Luogo privato (garage)  |
|     |  | 2  | Luogo pubblico  |
|     |  | 3  | Spazi di sosta riservati  |
| 171 | In merito all'esposizione della tariffa:   | 1  | Il tassista non è tenuto ad esporre la tariffa  |
|     |  | 2  | Il tassista è tenuto ad esporre la tariffa  |
|     |  | 3  | E' facoltativo per il tassista esporre la tariffa   |
| 172 | La licenza comunale di esercizio può essere trasferita, senza l'assenso dell'autorità comunale, ad altra persona iscritta nel ruolo ed in possesso dei requisiti prescritti? | 1  | Si  |
|     |  | 2  | No  |
|     |  | 3  | In caso di morte del titolare   |
| 173 | Relativamente al tragitto:   | 1  | Non spetta al tassista l'iniziativa in merito alla scelta del tragitto  |
|     |  | 2  | E' facoltativo per il tassista assumere l'iniziativa in merito alla scelta del tragitto   |
|     |  | 3  | Spetta al tassista l'iniziativa in merito alla scelta del tragitto  |
| 174 | La licenza, durante gli spostamenti, deve trovarsi a bordo del mezzo?  | 1  | Si  |
|     |  | 2  | No  |
|     |  | 3  | E' facoltativo  |
| 175 | Si deve asportare il segnale "taxi fuori servizio"?  | 1  | Facoltativo   |
|     |  | 2  | Si  |
|     |  | 3  | No  |

| N.  | DOMANDA  | N. | RISPOSTA   |
|-----|--|----|--|
| 176 | Cosa prescrive la legge in materia di revisione dei veicoli adibiti a taxi?  | 1  | Il veicolo deve essere revisionato annualmente           |
|     |  | 2  | Il veicolo non deve essere revisionato annualmente       |
|     |  | 3  | E' facoltativo revisionare annualmente il veicolo        |
| 177 | Nel servizio N.C.C. è consentita la fermata su suolo pubblico durante l'attesa del cliente che ha effettuato la prenotazione   | 1  | Si, sempre   |
|     |  | 2  | No   |
|     |  | 3  | Solo negli spazi riservati al servizio taxi              |
| 178 | Come va conteggiata la prestazione del tassista?   | 1  | Cronotachigrafo  |
|     |  | 2  | Tassametro   |
|     |  | 3  | In base ai Km.   |
| 179 | Quando le autovetture adibite al servizio di taxi sono esonerate dall'obbligo del tassametro omologato?  | 1  | Nei comuni di maggiori dimensioni                        |
|     |  | 2  | Nei comuni di minori dimensioni                          |
|     |  | 3  | Nei comuni di medie dimensioni                           |
| 180 | E' consentita la fermata di altri veicoli per la sola salita o discesa di persone, od altre esigenze di brevissima durata, restando il conducente presente e pronto a ripartire, nelle apposite piazzole destinate al servizio taxi? | 1  | Si, sempre   |
|     |  | 2  | No   |
|     |  | 3  | Solo se esiste una specifica indicazione con cartello    |
| 181 | Ogni quanti anni è obbligatoria la revisione per i taxi?   | 1  | 3  |
|     |  | 2  | 1  |
|     |  | 3  | 2  |
| 182 | Un cliente inglese può pagare il servizio in sterline?   | 1  | Si   |
|     |  | 2  | No   |
|     |  | 3  | Solo se il tassista lo permette                          |
| 183 | Il tassista, nell'esercizio del servizio, deve indossare una particolare divisa?   | 1  | Si   |
|     |  | 2  | No, ma è necessario che adotti un abbigliamento decoroso |
|     |  | 3  | No, e può adottare anche un abbigliamento indecoroso     |

| N.  | DOMANDA  | N. | RISPOSTA  |
|-----|--|----|---|
| 184 | Può essere trasferita la licenza per l'esercizio di taxi o di N.C.C.?  | 1  | Si, purché a persona designata iscritta al ruolo, purché esistano determinate particolarità |
|     |  | 2  | No, mai   |
|     |  | 3  | Si, anche a persona non iscritta a ruolo  |
| 185 | Che cosa debbono obbligatoriamente avere installato a bordo le autovetture adibite al servizio di taxi?  | 1  | Il tassametro omologato   |
|     |  | 2  | Il tassametro   |
|     |  | 3  | L'impianto ricetrasmittente   |
| 186 | Chi esegue la revisione del veicolo adibito a taxi?  | 1  | La Motorizzazione o le officine autorizzate   |
|     |  | 2  | La Prefettura   |
|     |  | 3  | Il Comune   |
| 187 | I veicoli immatricolati in servizio di taxi o di noleggio con conducente possono essere impiegati per l'espletamento di servizi sussidiari o integrativi dei servizi di linea? | 1  | Si, previa autorizzazione del Comune.   |
|     |  | 2  | No  |
|     |  | 3  | Si, anche senza autorizzazione del Comune.  |
| 188 | E' vietata la sosta per l'autovettura da N.C.C., in posteggio di stanziamento su suolo pubblico nei comuni ove c'è l'esercizio di taxi?  | 1  | Si, ma in caso di necessità vi può sostare  |
|     |  | 2  | No  |
|     |  | 3  | Si  |
| 189 | Il tassista ha diritto al rimborso sulle accise dei carburanti?  | 1  | No  |
|     |  | 2  | Si  |
|     |  | 3  | In base ai Km. percorsi   |
| 190 | Per quali motivi si può revocare la licenza?   | 1  | Mancato rispetto dell'orario di servizio  |
|     |  | 2  | Taxi sporco   |
|     |  | 3  | Fallimento  |

| N.  | DOMANDA   | N.          | RISPOSTA  |
|-----|---|-------------|---|
| 191 | Per conseguire l'autorizzazione di noleggio con conducente è obbligatoria la disponibilità di una rimessa per la sosta del veicolo?               | 1<br>2<br>3 | No<br>Sì, è obbligatoria<br>Deve possedere la disponibilità di una rimessa, ma il veicolo può sostare ovunque.  |
| 192 | Da chi viene rilasciata l'autorizzazione per l'esercizio del servizio di taxi e del servizio di n.c.c.?   | 1<br>2<br>3 | Questura<br>Comune<br>Provincia   |
| 193 | Da chi è esercitata la funzione di tutela dei tassisti?   | 1<br>2<br>3 | Partiti politici<br>Sindacato lavoratori<br>Associazioni artigiane  |
| 194 | In caso di avaria della autovettura adibita a taxi, la corsa debba essere sospesa, il passeggero che abbandona il veicolo ha l'obbligo di pagare: | 1<br>2<br>3 | L'importo segnato dal tassametro<br>Nessun importo in quanto la corsa non è stata completata<br>L'importo spettante per l'intero percorso   |
| 195 | In caso di concorrenza sleale di un tassista nei confronti dei colleghi a chi va denunciato?  | 1<br>2<br>3 | Al Prefetto<br>Alle forze dell'ordine<br>Al Comune  |
| 196 | Relativamente all'orario:   | 1<br>2<br>3 | Compete al tassista la scelta libera dell'orario<br>Non compete al tassista la scelta libera dell'orario<br>E' facoltativo per il tassista assumersi la scelta libera dell'orario |
| 197 | Il tassista è soggetto ad IVA?  | 1<br>2<br>3 | Sì<br>No<br>Solo se emette fattura  |

| N. | DOMANDA | N. | RISPOSTA |
|----|---------|----|----------|
|----|---------|----|----------|

198 L'autorizzazione per il servizio pubblico non di linea viene rilasciata

- 1 In corrispondenza alla sezione del ruolo in cui si è iscritti
- 2 Per ogni sezione del ruolo
- 3 Per nessuna sezione del ruolo

199 Relativamente al tragitto:

1 Spetta al tassista l'iniziativa di deviare dal cammino più breve per recarsi nel luogo richiesto dal passeggero

2 E' facoltativo per il tassista assumersi l'iniziativa di deviare dal cammino più breve per recarsi nel luogo richiesto dal passeggero

3 Non spetta al tassista l'iniziativa di deviare dal cammino più breve per recarsi nel luogo richiesto dal passeggero

200 Si può prestare servizio in caso di tassametro guasto?

- 1 Il servizio deve comunque essere espletato
- 2 Il servizio non deve essere espletato
- 3 E' facoltativo espletare il servizio

201 In materia di assicurazione R.C.A.:

- 1 Il tassista non deve pagare l'assicurazione R.C.A.
- 2 E' facoltativo pagare l'assicurazione R.C.A.
- 3 Il tassista deve pagare l'assicurazione R.C.A.

202 L'uso della cintura di sicurezza da parte del conducente di un taxi:

- 1 E' sempre obbligatorio
- 2 Non è obbligatorio in quanto il taxi è un veicolo in servizio pubblico
- 3 E' facoltativo

203 L'uso della cintura di sicurezza da parte dei bambini sui taxi

- 1 E' sempre obbligatorio
- 2 I bambini di statura minore di 1,50 mt sono esonerati purchè accompagnati da un passeggero avente almeno 16 anni di età
- 3 è facoltativo

| N.  | DOMANDA   | N.          | RISPOSTA   |
|-----|---|-------------|--|
| 204 | Relativamente allo svolgimento di corse extraurbane in presenza di nebbia:  | 1<br>2<br>3 | E' facoltativo per il tassista effettuare la corsa<br>Il tassista non deve effettuare la corsa<br>Il tassista è tenuto ad effettuare la corsa  |
| 205 | Le prestazioni di servizio al di sotto dei 50 Km dove vanno obbligatoriamente registrate?                             | 1<br>2<br>3 | Registro corrispettivi<br>Libro giornale<br>Lettera di vettura   |
| 206 | In estate il tassista può guidare con gli zoccoli?  | 1<br>2<br>3 | Sì<br>No<br>solo in alcune circostanze   |
| 207 | Per l'esercizio del servizio di taxi e n.c.c. l'iscrizione al ruolo è obbligatoria?                                   | 1<br>2<br>3 | Sì<br>No<br>Facoltativa  |
| 208 | Il servizio di piazza per trasporto di persone può essere svolto solamente con autovetture immatricolate ad uso taxi? | 1<br>2<br>3 | No, possono utilizzarsi anche autovetture immatricolate per noleggio con conducente, se autorizzate<br>Sì<br>No, può essere svolto anche con minibus   |
| 209 | Relativamente al carico di grossi animali:  | 1<br>2<br>3 | Il tassista può rifiutarne il carico<br>Il tassista può esigere il pagamento di una tariffa superiore a quella appositamente prevista dal Comune<br>Il tassista non può rifiutarne il carico |
| 210 | Il trasporto di animali vivi sui taxi:  | 1<br>2<br>3 | E' ammesso alle condizioni previste dal regolamento comunale<br>E' facoltativo<br>Non è ammesso  |



| N.  | DOMANDA  | N. | RISPOSTA   |
|-----|--|----|--|
| 211 | Il mancato rispetto delle tariffe da parte dell'esercente il servizio di taxi per abusiva regolazione del tassametro può determinare la revoca della licenza di esercizio? | 1  | Si   |
|     |  | 2  | No   |
|     |  | 3  | Solo se recidivo   |
| 212 | Per immatricolare un veicolo in servizio pubblico da piazza (taxi):  | 1  | E' sufficiente l'autocertificazione del proprietario attestante l'uso del mezzo  |
|     |  | 2  | E' necessario essere in possesso di KB (certificato di abilitazione professionale)   |
|     |  | 3  | E' necessaria specifica autorizzazione da parte dell'Ente concedente la licenza di esercizio il quale stabilisce anche la tipologia di veicolo |
| 213 | La licenza per l'esercizio del servizio di taxi può essere conseguita da:  | 1  | Soggetti in possesso della cittadinanza italiana o in possesso della cittadinanza di un paese straniero facente parte della UE                 |
|     |  | 2  | Chiunque   |
|     |  | 3  | Soggetti in possesso della cittadinanza di un paese straniero non facente parte della UE   |
| 214 | Quando si mette in funzione il tassametro?   | 1  | Inizio corsa   |
|     |  | 2  | Metà corsa   |
|     |  | 3  | Fine corsa   |
| 215 | Con l'iscrizione al ruolo nella sezione "conducenti di autovetture" si può concorrere al rilascio dell'autorizzazione?   | 1  | Solo per la sezione conducenti di autovetture  |
|     |  | 2  | Anche per la sezione conducenti di natanti   |
|     |  | 3  | Per tutte le sezioni in cui è articolato il ruolo  |

| N.  | DOMANDA  | N.   | RISPOSTA |
|-----|--|--|----------|
| 216 | Il tassametro è obbligatorio in tutti i comuni?  | <ul style="list-style-type: none"> <li>1 No</li> <li>2 Si</li> <li>3 Non indispensabile</li> </ul>   |          |
| 217 | Dopo quanti anni è trasferibile la licenza?  | <ul style="list-style-type: none"> <li>1 15</li> <li>2 10</li> <li>3 5</li> </ul>  |          |
| 218 | Chi stabilisce i criteri per la determinazione delle tariffe per il servizio taxi?   | <ul style="list-style-type: none"> <li>1 Provincia</li> <li>2 Comune</li> <li>3 Regione</li> </ul>   |          |
| 219 | Il rimborso sulle accise dei carburanti a cosa si riferisce?   | <ul style="list-style-type: none"> <li>1 ai km. percorsi</li> <li>2 sulle giornate lavorative</li> <li>3 ai km e le giornate lavorative</li> </ul>   |          |
| 220 | In materia di imposizione fiscale:   | <ul style="list-style-type: none"> <li>1 Il tassista deve pagare l'IRPEF</li> <li>2 E' facoltativo pagare l'IRPEF</li> <li>3 Il tassista non deve pagare l'IRPEF</li> </ul>  |          |
| 221 | Ogni quanti anni la licenza è sottoposta al controllo relativo alla permanenza dei requisiti?  | <ul style="list-style-type: none"> <li>1 2</li> <li>2 1</li> <li>3 3</li> </ul>  |          |
| 222 | L'esistenza di ogni eventuale supplemento tariffario deve essere portato a conoscenza dell'utente mediante avvisi chiaramente leggibili?   | <ul style="list-style-type: none"> <li>1 E' indifferente</li> <li>2 No</li> <li>3 Si</li> </ul>  |          |
| 223 | Se il cliente vuole pagare con valuta straniera il tassista può pretendere la valuta in euro?  | <ul style="list-style-type: none"> <li>1 Si</li> <li>2 No</li> <li>3 solo in dollari</li> </ul>  |          |
| 224 | I titolari di licenza per l'esercizio del taxi e di autorizzazione per l'esercizio del servizio di NCC possono avvalersi della collaborazione di familiari nello svolgimento del servizio? | <ul style="list-style-type: none"> <li>1 No</li> <li>2 Si, anche se non risultano essere iscritti al ruolo</li> <li>3 Si, purché siano iscritti al ruolo.</li> </ul>   |          |
| 225 | In ordine alla prestazione di servizi richiesti dagli agenti della forza pubblica:   | <ul style="list-style-type: none"> <li>1 Il tassista deve effettuare tali prestazioni</li> <li>2 Il tassista non deve effettuare tali prestazioni</li> <li>3 E' facoltativo per il tassista effettuare tali prestazioni</li> </ul> |          |

| N. | DOMANDA | N. | RISPOSTA |
|----|---------|----|----------|
|----|---------|----|----------|

- 226 L'attestato di accertamento dei requisiti di idoneità all'esercizio del trasporto di persone mediante autoservizi pubblici non di linea è rilasciato
- 1 Dal Comune
  - 2 Dalla Provincia
  - 3 Dalla Motorizzazione
- 227 Relativamente alla scelta del cliente:
- 1 Spetta al tassista l'iniziativa in merito alla scelta del cliente
  - 2 Non spetta al tassista l'iniziativa in merito alla scelta del cliente
  - 3 E' facoltativo per il tassista assumere l'iniziativa in merito alla scelta del cliente
- 228 E' ammesso in capo ad un medesimo soggetto il cumulo di più licenze taxi?
- 1 Si
  - 2 No
  - 3 Solo se titolare di licenza taxi da oltre 10 anni
- 229 Il rilascio di autorizzazioni per il servizio di taxi e di noleggio con conducente sono accessibili a tutti i soggetti portatori di handicap?
- 1 Si
  - 2 No
  - 3 Solo quelli individuati dalla Amministrazione comunale con Ordinanza sindacale
- 230 Qual'è l'autorità preposta a determinare il numero degli autoveicoli da ammettere al servizio pubblico da piazza?
- 1 Comune
  - 2 Prefettura
  - 3 Motorizzazione Civile
- 231 Qual'è l'autorità preposta al rilascio della concessione per il trasporto di persone mediante servizio pubblico non di linea?
- 1 Regione
  - 2 Comune
  - 3 Prefettura

| N.  | DOMANDA  | N.          | RISPOSTA   |
|-----|--|-------------|--|
| 232 | Qual'è l'autorità preposta al controllo del tassametro?  | 1<br>2<br>3 | Comune<br>Motorizzazione Civile<br>Guardia di Finanza  |
| 233 | I conducenti di autoveicoli da piazza possono lasciare guidare l'autovettura a persona estranea al servizio anche se munito del certificato di abilitazione professionale? | 1<br>2<br>3 | Si<br>No<br>Previa autorizzazione della Prefettura   |
| 234 | Quale tipo di C.A.P. è necessario per guidare un taxi?   | 1<br>2<br>3 | KA<br>KB<br>KC   |
| 235 | In materia fiscale:  | 1<br>2<br>3 | Il tassista deve tenere i corrispettivi fiscali<br>Il tassista non deve tenere i corrispettivi fiscali<br>E' facoltativo tenere i corrispettivi fiscali  |
| 236 | Relativamente all'orario:  | 1<br>2<br>3 | E' facoltativo per il tassista rispettare l'orario impostogli<br>Il tassista non è tenuto a rispettare l'orario impostogli<br>Il tassista è tenuto a rispettare l'orario impostogli              |
| 237 | Per quanto concerne la piombatura del tassametro:  | 1<br>2<br>3 | E' facoltativo provvedere alla piombatura del tassametro<br>L'autovettura adibita a taxi non deve avere il tassametro piombato<br>L'autovettura adibita a taxi deve avere il tassametro piombato |
| 238 | Quale ente piomba il tassametro?   | 1<br>2<br>3 | Regione<br>Provincia<br>Comune   |
| 239 | Per immatricolare una vettura a taxi occorre una autorizzazione. Da chi viene rilasciata?  | 1<br>2<br>3 | Questura<br>Comune<br>Provincia  |
| 240 | Chi delibera le tariffe per il servizio taxi?  | 1<br>2<br>3 | Provincia<br>Comune<br>Regione   |

| N.  | DOMANDA   | N.          | RISPOSTA  |
|-----|---|-------------|---|
| 241 | Chi propone il rinnovo delle tariffe?   | 1<br>2<br>3 | Comune<br>Organizzazioni Sindacali<br>Regione             |
| 242 | Quale autorità obbliga il tassametro?   | 1<br>2<br>3 | Motorizzazione Trasporti<br>Camera di Commercio<br>Comune |
| 243 | Quale ente rilascia la licenza taxi?  | 1<br>2<br>3 | Regione<br>Provincia<br>Comune                            |
| 244 | Quale autorità può revocare la licenza?   | 1<br>2<br>3 | Provincia<br>Comune<br>Regione                            |
| 245 | Il tassista deve prestare servizio per tutta la rete italiana?                              | 1<br>2<br>3 | Si<br>No<br>Facoltativo                                   |
| 246 | Al tassista è consentito pretendere una tariffa maggiore di quella indicata dal tassametro? | 1<br>2<br>3 | Secondo il percorso<br>No<br>Si                           |
| 247 | Il segnale "TAXI" deve essere luminoso?   | 1<br>2<br>3 | No<br>Si<br>Facoltativo                                   |
| 248 | Quale autorità accoglie i reclami?  | 1<br>2<br>3 | Regione<br>Questura<br>Comune                             |
| 249 | Quale ente esamina eventuali reclami?   | 1<br>2<br>3 | Provincia<br>Comune<br>Regione                            |
| 250 | Che colorazione esterna deve avere l'autovettura da adibire a taxi?                         | 1<br>2<br>3 | Giallo chiara<br>Bianca<br>Giallo scura                   |
| 251 | Sono ammessi all'esterno delle autovetture fregi o fasce mono o policrome?                  | 1<br>2<br>3 | Si<br>No<br>Solo nella parte anteriore                    |

| N.  | DOMANDA   | N.          | RISPOSTA  |
|-----|---|-------------|---|
| 252 | Sulle fiancate dei taxi lo stemma identificativo dell'azienda e/o del Comune:                                       | 1<br>2<br>3 | E' obbligatorio<br>E' facoltativo<br>E' obbligatorio solo se previsto dal regolamento comunale  |
| 253 | Qual'è l'ente preposto alla determinazione delle tariffe?   | 1<br>2<br>3 | Amministrazione comunale<br>Amministrazione regionale<br>Amministrazione provinciale  |
| 254 | Dove avviene il prelevamento dell'utente?   | 1<br>2<br>3 | Nel territorio del comune<br>Fuori territorio comunale<br>All'estero  |
| 255 | Presso quale ente è istituito il ruolo dei conducenti di veicoli o natanti adibiti a servizi pubblici non di linea? | 1<br>2<br>3 | Regione<br>Camera di Commercio<br>Comune  |
| 256 | Qual'è il requisito indispensabile per l'iscrizione al ruolo?   | 1<br>2<br>3 | Certificato di abilitazione professionale<br>Certificato penale<br>Certificato antimafia  |
| 257 | A che cosa serve l'iscrizione al ruolo?   | 1<br>2<br>3 | Per l'esercizio del servizio di taxi o autonoleggio con conducente<br>Per il rilascio del certificato di abilitazione professionale<br>Per l'iscrizione al registro mestieri ambulanti  |
| 258 | In merito alla pulizia dell'autovettura:  | 1<br>2<br>3 | Il tassista deve provvedere costantemente al mantenimento della pulizia del veicolo anche durante la sosta al posteggio<br>Il tassista può prestare servizio con il veicolo sporco<br>Il tassista non può prestare servizio con il veicolo sporco |
| 259 | Il tassista è obbligato a pagare la TOSAP?  | 1<br>2<br>3 | Sì<br>No<br>solo se staziona di notte   |

| N. | DOMANDA | N. | RISPOSTA |
|----|---------|----|----------|
|----|---------|----|----------|

**SICUREZZA ED ELEMENTI COSTITUTIVI DEL VEICOLO**

**260** In caso di nebbia fitta è opportuno

- 1** Evitare di fermarsi sulla carreggiata, se non per cause di forza maggiore
- 2** Suonare insistentemente il clacson
- 3** Tenere la cintura di sicurezza sganciata per esser più pronti ad abbandonare il veicolo

**261** In caso di nebbia fitta è opportuno

- 1** Entrare speditamente nel banco di nebbia per poterne uscire al più presto
- 2** Accendere i proiettori fendinebbia o, in mancanza, quelli anabbaglianti
- 3** Circolare con le sole luci di posizione accese

**262** In caso di nebbia fitta è opportuno

- 1** Procedere ad una velocità adeguata alle proprie possibilità visive
- 2** Usare le luci abbaglianti con fascio di profondità
- 3** Procedere a zig zag per far meglio notare la propria presenza

**263** In caso di nebbia fitta è opportuno

- 1** Usare le luci abbaglianti con fascio di profondità
- 2** Se costretti a fermarsi su carreggiate, usare la segnalazione luminosa di pericolo
- 3** Accodarsi al veicolo che precede senza rispettare la distanza di sicurezza

**264** In caso di strada innevata il conducente deve

- 1** Applicare le catene o i pneumatici per neve sulle ruote motrici
- 2** Applicare le catene sulle ruote posteriori, anche se la trazione è anteriore
- 3** Sui tratti in discesa posizionare il cambio in folle e controllare la velocità mediante il freno

| N.  | DOMANDA  | N. | RISPOSTA  |
|-----|--|----|---|
| 265 | In presenza di tratti di strada ghiacciati è opportuno | 1  | Frenare energicamente   |
|     |  | 2  | Porre il cambio in folle  |
|     |  | 3  | Usare maggiore attenzione nell'accesso a zone in ombra                            |
| 266 | In presenza di tratti di strada ghiacciati è opportuno | 1  | Marciare molto vicino alla barriera laterale                                      |
|     |  | 2  | Ridurre notevolmente la velocità  |
|     |  | 3  | Lasciare di colpo l'acceleratore, con marcia bassa innestata                      |
| 267 | Su strade coperte di neve occorre                      | 1  | Evitare brusche manovre   |
|     |  | 2  | Accendere i proiettori fendinebbia o quelli anabbaglianti                         |
|     |  | 3  | Frenare in caso di sbandamento del veicolo  |
| 268 | Su strade coperte di neve occorre                      | 1  | Montare sulle ruote motrici catene o pneumatici per neve                          |
|     |  | 2  | Frenare in caso di sbandamento del veicolo  |
|     |  | 3  | Frenare con maggiore energia  |
| 269 | Se la strada è bagnata o ghiacciata                    | 1  | E' obbligatorio l'uso dei proiettori anabbaglianti                                |
|     |  | 2  | E' consigliabile azionare dolcemente il volante                                   |
|     |  | 3  | E' opportuno sovraccaricare il veicolo per una maggior aderenza al fondo stradale |
| 270 | Il sistema frenante antibloccaggio ruote (ABS)         | 1  | Funziona soltanto con pneumatici nuovi  |
|     |  | 2  | Impedisce il bloccaggio delle ruote durante la fase di frenatura                  |
|     |  | 3  | Serve per bloccare il veicolo in caso di allontanamento del conducente            |
| 271 | Il sistema frenante antibloccaggio ruote (ABS)         | 1  | Assicura una migliore governabilità del veicolo in fase di frenatura              |
|     |  | 2  | Non è applicabile alle piccole autovetture  |
|     |  | 3  | Funziona solo in curva  |



| N.  | DOMANDA  | N.          | RISPOSTA  |
|-----|--|-------------|---|
| 272 | Se il sistema frenante antibloccaggio ruote (ABS) non funziona                                       | 1<br>2<br>3 | <p>1 Si può proseguire la marcia con cautela facendo attenzione alle brusche frenate</p> <p>2 Bisogna arrestarsi subito</p> <p>3 Si può proseguire la marcia perché l'impianto frenante è comunque funzionante</p>                |
| 273 | L'airbag   | 1<br>2<br>3 | <p>1 E' azionato dal conducente in caso di pericolo</p> <p>2 E' un sistema utilizzato per regolare il volante</p> <p>3 Può essere di tipo frontale o laterale</p>   |
| 274 | In caso di pioggia occorre   | 1<br>2<br>3 | <p>1 Procedere, di norma, con il pedale della frizione abbassato</p> <p>2 Evitare l'appannamento dei vetri</p> <p>3 Frenare energicamente</p>   |
| 275 | In caso di forti piogge il conducente deve   | 1<br>2<br>3 | <p>1 Aumentare la velocità di marcia, nel rispetto dei limiti di legge</p> <p>2 Evitare di azionare il freno in modo improvviso e non dosato</p> <p>3 Usare pneumatici a pressione inferiore a quella normalmente consigliata</p> |
| 276 | In caso di forti piogge il conducente deve   | 1<br>2<br>3 | <p>1 Evitare di azionare il freno in modo improvviso e non dosato</p> <p>2 Aumentare la velocità di marcia, nel rispetto dei limiti di legge</p> <p>3 Usare pneumatici a pressione inferiore a quella normalmente suggerita</p>   |
| 277 | In caso di acquazzoni, il fenomeno dell'aquaplaning dovuto a qualche millimetro d'acqua sull'asfalto | 1<br>2<br>3 | <p>1 Fa scivolare le ruote sul terreno bagnato</p> <p>2 Aumenta artificialmente l'aderenza</p> <p>3 E' utile per la pulizia del veicolo</p>   |

| N.  | DOMANDA  | N.          | RISPOSTA   |
|-----|--|-------------|--|
| 278 | In caso di acquazzoni, il fenomeno dell'aquaplaning dovuto a qualche millimetro d'acqua sull'asfalto | 1<br>2<br>3 | 1 Riduce lo sbandamento del veicolo<br>2 E' quasi un galleggiamento sull'acqua<br>3 E' più accentuato nelle strade a schiena d'asino   |
| 279 | In caso di forte vento trasversale favorisce la stabilità  | 1<br>2<br>3 | 1 Viaggiare con veicolo carico<br>2 Marciare a velocità sostenuta<br>3 Disporre sul portabagagli carichi voluminosi ma leggeri   |
| 280 | Lo stato di shock  | 1<br>2<br>3 | 1 Non si verifica mai nei traumatizzati<br>2 Non è mai conseguente a forti emozioni<br>3 Può essere causato da un forte dolore   |
| 281 | Lo stato di shock  | 1<br>2<br>3 | 1 Non rappresenta un grave pericolo per la salute<br>2 Può essere causato da un forte trauma<br>3 Non è mai conseguente a forti emozioni   |
| 282 | Si deve chiamare la polizia a seguito di incidente stradale?   | 1<br>2<br>3 | 1 Quando non si è sicuri di essere dalla parte della ragione<br>2 Quando esiste la possibilità di responsabilità penali<br>3 Quando non si ha il modulo constatazione amichevole |
| 283 | Si deve chiamare la polizia a seguito di incidente stradale?   | 1<br>2<br>3 | 1 Quando l'incidente abbia provocato feriti<br>2 Se non si riesce a mettere in moto il veicolo<br>3 Mai, in caso di danni solo ai veicoli  |

| N.  | DOMANDA  | N. | RISPOSTA  |
|-----|--|----|---|
| 284 | Si deve chiamare la polizia a seguito di incidente stradale?     | 1  | Quando non ci siano altri testimoni   |
|     |  | 2  | Quando non si ha il modulo di constatazione amichevole  |
|     |  | 3  | In caso di investimento di persona con lesioni  |
| 285 | La responsabilità penale connessa al sinistro stradale sorge     | 1  | In tutti i casi di danni alle persone o alle cose   |
|     |  | 2  | Nei confronti del proprietario del veicolo nel caso in cui il conducente rimanga non identificato   |
|     |  | 3  | Qualora esso provochi lesioni gravi a persone   |
| 286 | La responsabilità penale connessa al sinistro stradale sorge     | 1  | Qualora esso provochi lesioni, di qualsiasi entità  |
|     |  | 2  | Allorché vengano violate norme contemplate dal codice penale o talune norme del codice della strada |
|     |  | 3  | In ogni caso in cui sia violato il codice della strada  |
| 287 | La responsabilità penale connessa al sinistro stradale è esclusa | 1  | Quando il fatto dipende da causa di forza maggiore  |
|     |  | 2  | Ogni qualvolta ci sia stato il risarcimento del danno   |
|     |  | 3  | Qualora intervenga l'impresa assicuratrice pagando adeguatamente                                    |
| 288 | La responsabilità civile connessa al sinistro stradale           | 1  | E' esclusa per danni di lieve entità  |
|     |  | 2  | Non grava sul conducente se questi prova di aver fatto il possibile per evitare il danno            |
|     |  | 3  | E' aggravata dalla violazione di norme penali   |

| N.  | DOMANDA  | N. | RISPOSTA  |
|-----|--|----|---|
| 289 | Chi è civilmente obbligato a risarcire i danni provocati da un sinistro stradale | 1  | Può, in alternativa, chiedere il pagamento di una oblazione   |
|     |  | 2  | Non è tenuto a chiedere l'intervento degli organi di polizia, se non vi sono danni alle persone     |
|     |  | 3  | Deve necessariamente richiedere l'intervento degli organi di polizia                                |
| 290 | Chi è penalmente e civilmente responsabile di un sinistro stradale               | 1  | Può incorrere nella sospensione della patente di guida  |
|     |  | 2  | E' in ogni caso assoggettato alla revoca della patente  |
|     |  | 3  | Non è assoggettato alle sanzioni del Codice della Strada  |
| 291 | In caso di incidente stradale, il conducente                                     | 1  | Se interviene l'autorità, deve solo far verbalizzare la propria versione dell'incidente             |
|     |  | 2  | Deve annotare le generalità dell'altro conducente e gli estremi di patente, veicolo e assicurazione |
|     |  | 3  | Basta che si ricordi dell'esatta posizione dei veicoli dopo lo scontro                              |
| 292 | Per individuare persone e veicoli in un incidente stradale                       | 1  | Per l'individuazione dei veicolo, occorre verificare sempre il numero del telaio                    |
|     |  | 2  | Controllare un documento atto a consentire la rilevazione dell'identità del conducente              |
|     |  | 3  | E' sufficiente chiedere le generalità   |
| 293 | L'individuazione dei testimoni, in caso di incidente stradale                    | 1  | Serve solo se il conducente dell'altro veicolo è chiaramente una persona poco affidabile            |
|     |  | 2  | Non occorre se interviene l'autorità; è bene però far verbalizzare la propria versione              |
|     |  | 3  | Non serve se la responsabilità dell'incidente è dell'altro conducente                               |

| N.  | DOMANDA   | N. | RISPOSTA  |
|-----|---|----|---|
| 294 | In caso di incidente il soccorritore deve   | 1  | Valutare la situazione al fine di proteggere la vittima da ulteriori pericoli                 |
|     |   | 2  | Allontanarsi dal luogo dell'incidente   |
|     |   | 3  | Limitarsi ad attendere i soccorsi senza fare nulla  |
| 295 | Dopo un incidente stradale occorre  | 1  | Mettere l'apposito segnale di veicolo fermo, nella posizione prevista dal codice della strada |
|     |   | 2  | Solo di notte, apporre il triangolo in prossimità del veicolo                                 |
|     |   | 3  | Coprire il veicolo con un telo di plastica  |
| 296 | Il veicolo, dopo un incidente stradale, può essere spostato                                   | 1  | In ogni caso, ma ricordandosi bene la posizione dei veicoli per riferirla all'autorità        |
|     |   | 2  | Dopo che la polizia ha rilevato tutti gli elementi utili alla ricostruzione dell'incidente    |
|     |   | 3  | Solo durante le ore diurne  |
| 297 | In caso di incidente, si deve segnalare il pericolo ai veicoli che sopraggiungono             | 1  | Con l'apposito segnale di veicolo fermo, se l'incidente provoca ingombro della carreggiata    |
|     |   | 2  | Di notte, accendendo un fuoco in prossimità del veicolo incidentato                           |
|     |   | 3  | Suonando a intervalli regolari il dispositivo di segnalazione acustica                        |
| 298 | L'assicurazione per la responsabilità civile auto (R.C.A.), obbligatoria per legge, comprende | 1  | Il risarcimento dei danni provocati dal veicolo, solo se guidato dal proprietario             |
|     |   | 2  | Il risarcimento di danni provocati dal veicolo a terze persone entro i massimali              |
|     |   | 3  | Il danno a terzi e il furto entro i massimali   |

| N.  | DOMANDA   | N.          | RISPOSTA  |
|-----|---|-------------|---|
| 299 | La insufficiente tenuta di strada del veicolo può dipendere                       | 1<br>2<br>3 | Dalla mancanza di equilibratura delle ruote<br>Dal tipo di sterzo<br>Dalla presenza del differenziale autobloccante   |
| 300 | In caso di incidente stradale, il conducente                                      | 1<br>2<br>3 | Se vi sono feriti, è opportuno che faccia intervenire le autorità per le constatazioni di rito<br>Se vi sono feriti deve in ogni caso chiamare il pronto soccorso<br>Se ha torto deve prendere le generalità dell'altro conducente, se ha ragione non occorre             |
| 301 | L'individuazione dei testimoni, in caso di incidente stradale                     | 1<br>2<br>3 | Non è indispensabile se ci si avvale della constatazione amichevole<br>Serve solo se il conducente dell'altro veicolo è chiaramente una persona poco affidabile<br>E' utile solo se l'assicurazione di uno dei conducenti è scaduta                                       |
| 302 | In caso di incidente, si deve segnalare il pericolo ai veicoli che sopraggiungono | 1<br>2<br>3 | Suonando a intervalli regolari il dispositivo di segnalazione acustica<br>Solamente se il traffico è bloccato a causa dell'incidente<br>Immediatamente in caso di ingombro della carreggiata, specialmente se in curva  |
| 303 | In caso di traffico intenso il conducente deve                                    | 1<br>2<br>3 | Occupare le corsie riservate alla marcia dei veicoli in servizio pubblico, soltanto se libere<br>Fare uso del lampeggio simultaneo di tutti gli indicatori di direzione<br>Evitare di suonare il clacson per invitare i veicoli che lo precedono ad accelerare l'andatura |

| N.  | DOMANDA   | N. | RISPOSTA  |
|-----|---|----|---|
| 304 | La sospensione della patente è disposta   | 1  | In caso di temporanea perdita dei requisiti fisici o psichici                                   |
|     |   | 2  | Quando il titolare affidi la guida del proprio veicolo a chi è privo di patente                 |
|     |   | 3  | Quando il titolare non sia più in possesso dei requisiti morali richiesti                       |
| 305 | La disattenzione e il mancato senso del pericolo può essere causato da                      | 1  | Uso di farmaci e sedativi   |
|     |   | 2  | Abuso di bevande analcoliche  |
|     |   | 3  | Eccessivo condimento degli alimenti   |
| 306 | La distanza di sicurezza di un veicolo rispetto al veicolo che precede deve essere          | 1  | Correlata alle condizioni del traffico  |
|     |   | 2  | Commisurata all'ampiezza della carreggiata  |
|     |   | 3  | Di almeno 10 m se il veicolo che precede è una macchina sgombraneve in azione                   |
| 307 | Il fine del primo soccorso è  | 1  | Evitare, per quanto possibile, che la vittima subisca ulteriori lesioni                         |
|     |   | 2  | Informarsi dalla vittima sulle modalità dell'incidente per riferire alle autorità di competenza |
|     |   | 3  | Allontanare in ogni caso la vittima dal luogo dell'incidente                                    |
| 308 | Nel caso l'infortunato, cosciente, abbia riportato un trauma della gabbia toracica, bisogna | 1  | Prestare assistenza fino all'arrivo di più adeguati soccorsi                                    |
|     |   | 2  | Porre il soggetto in posizione distesa  |
|     |   | 3  | In caso di ferita profonda, pulire, disinfettare e medicare la lesione                          |

| N.  | DOMANDA   | N. | RISPOSTA   |
|-----|---|----|--|
| 309 | Nel caso la vittima presenti una o più fratture agli arti, si deve        | 1  | Somministrare al ferito una bevanda superalcolica                                      |
|     |   | 2  | Dopo aver immobilizzato l'arto, attuare, se necessario, le comuni misure anti-shock    |
|     |   | 3  | In caso di fratture con fuoriuscita di osso, cercare di reinserirlo nei tessuti        |
| 310 | Nel caso la vittima presenti una o più fratture agli arti, si deve        | 1  | Non muovere l'arto fratturato se non dopo averlo immobilizzato                         |
|     |   | 2  | Cercare di correggere la frattura per limitare il dolore                               |
|     |   | 3  | Invitare l'infortunato a muovere l'arto fratturato per valutare l'entità delle lesioni |
| 311 | Il conducente che accusa segni di stanchezza deve                         | 1  | Accostarsi il più possibile al veicolo che lo precede nella marcia                     |
|     |   | 2  | Spegnere le luci del cruscotto   |
|     |   | 3  | Ove necessario, fermarsi anche sulla corsia per la sosta di emergenza                  |
| 312 | L'assunzione di stupefacenti influisce sulla guida perché                 | 1  | Migliora la risposta alla fatica   |
|     |   | 2  | Altera le percezioni (vista, udito, riflessi)  |
|     |   | 3  | Migliora l'autocontrollo   |
| 313 | Soccorrere un infortunato della strada                                    | 1  | Non è obbligatorio   |
|     |   | 2  | E' obbligatorio anche per dovere morale  |
|     |   | 3  | E' obbligatorio solo se si giudica grave l'incidente                                   |
| 314 | Si ha "stato di ebbrezza" se il valore del tasso alcolemico è superiore a | 1  | 0,5 grammi per litro   |
|     |   | 2  | 0,1 grammi per litro   |
|     |   | 3  | 5 grammi per litro   |



| N.  | DOMANDA   | N.          | RISPOSTA  |
|-----|---|-------------|---|
| 315 | La striscia bianca continua che delimita la corsia di emergenza   | 1<br>2<br>3 | 1 Segnala il bordo della carreggiata<br>2 Indica anche la corsia di accelerazione<br>3 Può essere sempre superata in caso di intasamento del traffico   |
| 316 | Sono esentati dall'obbligo di indossare le cinture di sicurezza   | 1<br>2<br>3 | 1 Istruttori di guida nello svolgimento della loro attività<br>2 Militari delle forze armate<br>3 Personale che preleva o distribuisce la posta   |
| 317 | Se, per rottura dell'impianto frenante, l'efficienza dei freni è limitata alle sole ruote dell'asse posteriore, è consigliabile | 1<br>2<br>3 | 1 Spostare i carichi mobili nel portabagagli posteriore o nella parte posteriore dell'abitacolo<br>2 Ridurre la pressione dei pneumatici montati sulle ruote dell'asse anteriore<br>3 Controllare il liquido di raffreddamento del motore |
| 318 | Deve essere eseguito con frequenza sull'impianto di illuminazione   | 1<br>2<br>3 | 1 L'accertamento dell'accensione e del corretto funzionamento di tutte le luci<br>2 Il controllo della frequenza della corrente alternata<br>3 La misurazione della funzionalità dello spinterogeno                                       |
| 319 | Per controllare lo sbandamento del veicolo è opportuno  | 1<br>2<br>3 | 1 Lasciare, di norma, innestata la frizione<br>2 Innestare una marcia inferiore e lasciare bruscamente il pedale della frizione<br>3 Frenare immediatamente   |
| 320 | Per mantenere i freni efficienti è necessario sottoporre a periodici controlli  | 1<br>2<br>3 | 1 Il gioco dello sterzo<br>2 La capacità di frenatura<br>3 I cerchioni delle ruote  |

| N.  | DOMANDA  | N.          | RISPOSTA   |
|-----|--|-------------|--|
| 321 | Se lo sterzo si presenta più duro del normale, può dipendere | 1<br>2<br>3 | Da sovraccarico dell'asse posteriore<br>Da insufficienza del servosterzo<br>Dai pneumatici anteriori troppo gonfi  |
| 322 | Cosa non consente la patente di guida di categoria B         | 1<br>2<br>3 | Di superare i 100 Km/h in autostrada per i primi tre anni dal conseguimento<br>Prevede limitazioni di velocità per i primi tre anni dalla data di superamento dell'esame<br>Non consente di circolare a 130 Km/h in autostrada a chi l'ha conseguita da meno di 3 anni |
| 323 | Il numero delle persone trasportabili                        | 1<br>2<br>3 | E' indicato sulla carta di circolazione<br>Sui motoveicoli è sempre di due oltre il conducente<br>Sulle autovetture è al massimo di cinque   |
| 324 | L'aderenza delle ruote sul manto stradale è ridotta da       | 1<br>2<br>3 | Presenza di melma sul fondo stradale<br>Aumento dei carichi trasportati<br>Elevato numero di giri del motore   |
| 325 | Il fenomeno dell'aquaplaning                                 | 1<br>2<br>3 | Fa sollevare le ruote dal terreno bagnato<br>Riduce lo sbandamento del veicolo<br>Aumenta nelle carreggiate a forte pendenza laterale  |
| 326 | L'insufficiente tenuta di strada del veicolo può dipendere   | 1<br>2<br>3 | Dalla cattiva distribuzione dei carichi<br>Dal tipo di sterzo<br>Dalla presenza del differenziale autobloccante  |
| 327 | La squilibratura dei freni può dipendere da                  | 1<br>2<br>3 | Eccessivo gioco della frizione<br>Lunghe, eccessive e ripetute frenate<br>Eccessiva velocità   |

| N.  | DOMANDA   | N. | RISPOSTA  |
|-----|---|----|---|
| 328 | Una frenatura poco efficiente o squilibrata può essere causata                          | 1  | Dallo scarso livello dell'olio nella coppa del motore           |
|     |   | 2  | Dal tipo di olio usato nel differenziale                        |
|     |   | 3  | Dall'eccessivo riscaldamento delle superfici frenanti           |
| 329 | Una frenatura poco efficiente o squilibrata può essere causata                          | 1  | Dal logorio della frizione                                      |
|     |   | 2  | Dal carico erroneamente ripartito o eccessivo                   |
|     |   | 3  | Dal tipo di olio usato nel differenziale                        |
| 330 | Una frenatura poco efficiente o squilibrata può essere causata                          | 1  | Dalla presenza dell'aria nel circuito frenante                  |
|     |   | 2  | Dal consumo eccessivo dei denti del freno a mano                |
|     |   | 3  | Dall'eccessiva morbidezza delle guarnizioni frenanti            |
| 331 | Al fine di evitare il prodursi di incidenti stradali, il conducente controllerà sovente | 1  | La rumorosità della marmitta                                    |
|     |   | 2  | La convergenza e l'equilibratura delle ruote                    |
|     |   | 3  | Il livello dell'olio nella coppa                                |
| 332 | Può ritenersi utile ai fini della sicurezza   | 1  | Circolare con i proiettori anabbaglianti orientati verso l'alto |
|     |   | 2  | Effettuare lunghi viaggi senza soste intermedie                 |
|     |   | 3  | Approssimarsi agli incroci rallentando prudentemente            |
| 333 | E' pericoloso ai fini della sicurezza   | 1  | Usare impropriamente i proiettori a luce abbagliante            |
|     |   | 2  | Sostare di notte fuori della carreggiata                        |
|     |   | 3  | Sostare fuori dei centri abitati dalle ore 8 alle ore 20        |

| N.  | DOMANDA   | N.          | RISPOSTA  |
|-----|---|-------------|---|
| 334 | Per garantire la sicurezza della circolazione ed evitare incidenti è necessario, fra l'altro, | 1<br>2<br>3 | <p>1 Tenere sempre efficiente l'impianto di illuminazione e di segnalazione visiva</p> <p>2 Controllare periodicamente l'efficienza ed il funzionamento del differenziale</p> <p>3 Lasciare i catadiottri coperti di polvere per evitare che scoloriscano</p>   |
| 335 | Per garantire la sicurezza della circolazione ed evitare incidenti è necessario, fra l'altro, | 1<br>2<br>3 | <p>1 Controllare periodicamente l'efficienza ed il funzionamento delle luci di posizione</p> <p>2 Controllare periodicamente l'efficienza ed il funzionamento della pompa dell'acqua di raffreddamento</p> <p>3 Sostituire le lampadine con altre di resistenza più elevata per assicurarle una maggiore durata</p> |
| 336 | Per garantire la sicurezza della circolazione ed evitare incidenti è necessario, fra l'altro, | 1<br>2<br>3 | <p>1 Assicurarsi della pulizia ed efficienza degli specchi retrovisori interni ed esterni</p> <p>2 Tenere sempre completamente aperti tutti i finestrini, d'estate, per non impolverare i vetri</p> <p>3 In caso di lesioni al parabrezza, ricoprirle con nastro adesivo trasparente non colorato</p>               |
| 337 | Per garantire la sicurezza della circolazione ed evitare incidenti è necessario, fra l'altro, | 1<br>2<br>3 | <p>1 Utilizzare il tergicristallo se il parabrezza è appannato internamente</p> <p>2 Verificare periodicamente le spazzole tergicristallo sostituendole se non sono in buono stato</p> <p>3 Utilizzare esclusivamente vetri temperati</p>   |

| N.  | DOMANDA   | N. | RISPOSTA   |
|-----|---|----|--|
| 338 | Per garantire la sicurezza della circolazione ed evitare incidenti è necessario, fra l'altro, | 1  | Tenere presente che il freno di stazionamento può essere sempre usato come freno di soccorso |
|     |   | 2  | Tenere presente che lo spazio di frenatura si quadruplica se raddoppia la velocità           |
|     |   | 3  | Controllare che la spia dell'olio freni sia correttamente accesa durante la marcia           |
| 339 | Per garantire la sicurezza della circolazione ed evitare incidenti è necessario, fra l'altro, | 1  | Avere cura di non produrre il riscaldamento dei freni per uso prolungato                     |
|     |   | 2  | Accertarsi del corretto funzionamento almeno del freno di servizio                           |
|     |   | 3  | Frenare a fondo su strada sdruciolevole  |
| 340 | Per garantire la sicurezza della circolazione ed evitare incidenti è necessario, fra l'altro, | 1  | Utilizzare pneumatici delle dimensioni previste dalla casa costruttrice                      |
|     |   | 2  | Diminuire la pressione dei pneumatici perché se ne migliora il raffreddamento                |
|     |   | 3  | Aumentare la pressione dei pneumatici per migliorarne l'aderenza                             |
| 341 | Per garantire la sicurezza della circolazione ed evitare incidenti è necessario, fra l'altro, | 1  | Utilizzare pneumatici di sezione più larga, purché di tipo omologato                         |
|     |   | 2  | Non cambiare mai la posizione dei pneumatici per permettere loro di adattarsi meglio         |
|     |   | 3  | Sostituire i pneumatici molto consumati perché rendono meno efficace la frenatura            |

| N.  | DOMANDA  | N.          | RISPOSTA   |
|-----|--|-------------|--|
| 342 | In caso di avverse condizioni del tempo, prima di partire bisogna                        | 1<br>2<br>3 | Pulire bene il parabrezza e i vetri che interessano la visibilità del conducente<br>Sostituire la ruota di scorta<br>Tirare il freno a mano  |
| 343 | In caso di avverse condizioni del tempo, prima di partire bisogna                        | 1<br>2<br>3 | Cambiare l'olio dei freni<br>Controllare che le luci del veicolo funzionino tutte<br>Cambiare l'olio del motore  |
| 344 | La squilibratura dei freni può dipendere da  | 1<br>2<br>3 | Eccessivo gioco del pedale del freno<br>Frenatura effettuata con il cambio in folle<br>Tamburo ovalizzato  |
| 345 | Con freni squilibrati, può avvenire in frenata   | 1<br>2<br>3 | Lo spostamento del carico all'indietro<br>Che sia compromessa la stabilità del veicolo<br>Un consumo eccessivo del liquido del circuito frenante   |
| 346 | Con freni squilibrati, può avvenire in frenata   | 1<br>2<br>3 | Che si blocchino soltanto le ruote di un lato<br>La staratura del servofreno<br>Uno sbandamento trasversale dalla parte della ruota che si blocca per ultima   |
| 347 | Se il veicolo, in fase di frenatura, tende a sbandare verso sinistra, il conducente deve | 1<br>2<br>3 | Provvedere a far controllare l'equilibratura del sistema frenante<br>Mantenere il veicolo frenato a fondo e controllare l'andamento del veicolo con rapide sterzate<br>Far controllare il livello dell'olio nella coppa del motore |

| N.  | DOMANDA   | N. | RISPOSTA  |
|-----|---|----|---|
| 348 | Per assicurare stabilità al veicolo in curva è opportuno  | 1  | Tenere sul tetto solo i bagagli più pesanti                                 |
|     |   | 2  | Procedere con il pedale della frizione abbassato                            |
|     |   | 3  | Ridurre o eliminare i bagagli sul tetto                                     |
| 349 | L'insufficiente tenuta di strada del veicolo può dipendere  | 1  | Dalla presenza di finestrini aperti solo da un lato                         |
|     |   | 2  | Dal tipo di sterzo  |
|     |   | 3  | Dalla eccessiva pressione dei pneumatici                                    |
| 350 | Se, per rottura dell'impianto frenante, l'efficienza dei freni è limitata alle sole ruote dell'asse posteriore, è consigliabile | 1  | Ridurre la velocità   |
|     |   | 2  | Ridurre la distanza di sicurezza dal veicolo che lo precede                 |
|     |   | 3  | Ridurre la pressione dei pneumatici montati sulle ruote dell'asse anteriore |
| 351 | I pneumatici degli autoveicolo con battistrada eccessivamente usurato   | 1  | Provocano l'aumento dello spazio di frenatura del veicolo                   |
|     |   | 2  | Aumentano l'aderenza  |
|     |   | 3  | Sono pericolosi soltanto in caso di pioggia                                 |
| 352 | Sui pneumatici occorre verificare frequentemente  | 1  | L'effetto della prova di frenatura a marcia indietro                        |
|     |   | 2  | Il loro peso  |
|     |   | 3  | Lo stato di usura del battistrada   |
| 353 | I pneumatici con battistrada eccessivamente usurato   | 1  | Influiscono sulla stabilità del veicolo solo in curva                       |
|     |   | 2  | Sono pericolosi soltanto in caso di pioggia                                 |
|     |   | 3  | Sono più soggetti alla foratura ed allo scoppio                             |

| N.  | DOMANDA  | N. | RISPOSTA  |
|-----|--|----|---|
| 354 | I pneumatici con lesioni sui fianchi che interessano le tele   | 1  | Si devono sostituire  |
|     |  | 2  | Possono essere usati a bassa velocità   |
|     |  | 3  | Costituiscono pericolo se tenuti ad elevata pressione                                   |
| 355 | Viaggiando con pneumatici dello stesso asse gonfiati con pressioni differenti  | 1  | Si compromette la tenuta di strada del veicolo  |
|     |  | 2  | E' opportuno frenare più energicamente  |
|     |  | 3  | Si affatica l'albero di trasmissione  |
| 356 | L'aderenza delle ruote sul manto stradale è ridotta da   | 1  | Bassa velocità  |
|     |  | 2  | Strada bagnata  |
|     |  | 3  | Uso di marcia bassa   |
| 357 | In un centro abitato, allorché un pedone, fuori dalle strisce di attraversamento, non accenni a darci la precedenza, è opportuno | 1  | Rallentare la velocità e, occorrendo, fermarsi per non investire il pedone              |
|     |  | 2  | Cercare di richiamare la sua attenzione con qualsiasi mezzo perché ci dia la precedenza |
|     |  | 3  | Proseguire, senza curarci di lui, perché abbiamo la precedenza                          |
| 358 | Quando in centro abitato ci imbattiamo in un corteo, è opportuno   | 1  | Fermarci sulla destra e attendere che la carreggiata si liberi                          |
|     |  | 2  | Se proprio abbiamo fretta, passare rapidamente usando il clacson in maniera continua    |
|     |  | 3  | Cercare di farci strada interrompendo il corteo, ma con estrema prudenza                |
| 359 | In presenza di cortei  | 1  | E' vietato interromperli  |
|     |  | 2  | Se sono formati da autoveicoli si può sorpassare un veicolo per volta                   |
|     |  | 3  | Bisogna rallentare e fermarsi soltanto se si tratta di colonne militari                 |



| N.  | DOMANDA   | N. | RISPOSTA  |
|-----|---|----|---|
| 360 | L'isola di traffico   | 1  | E' una zona riservata esclusivamente al transito dei pedoni                               |
|     |   | 2  | Contiene zebrature di colore bianco se a raso   |
|     |   | 3  | Agevola la salita e la discesa di passeggeri dei tram, filobus ed autobus                 |
| 361 | L'isola di traffico   | 1  | E' una piazzola di sosta per i veicoli  |
|     |   | 2  | Può essere percorsa solo dai taxi e dagli autobus urbani                                  |
|     |   | 3  | E' una parte della strada esclusa dal traffico veicolare                                  |
| 362 | Una zona a traffico limitato può essere                                       | 1  | Un'area sempre e comunque esclusa al traffico dei veicoli a motore                        |
|     |   | 2  | Un'area in cui l'accesso dei veicoli può essere consentito soltanto in ore prestabilite   |
|     |   | 3  | Un'area nella quale l'accesso dei pedoni è soggetto a limitazioni                         |
| 363 | Se lo sterzo si presenta più duro del normale può dipendere                   | 1  | Dalla presenza del servosterzo  |
|     |   | 2  | Da cattiva registrazione dell'assetto ruote   |
|     |   | 3  | Da cattiva registrazione dei freni  |
| 364 | Se lo sterzo sfarfalla vibrando fortemente                                    | 1  | Può dipendere dalla trazione posteriore   |
|     |   | 2  | Può dipendere dalla diversa inclinazione delle ruote anteriori                            |
|     |   | 3  | Può dipendente dalle asperità stradali  |
| 365 | Perché gli organi di sterzo contribuiscono alla sicurezza della circolazione? | 1  | I pneumatici debbono essere correttamente gonfiati secondo i dati forniti dal costruttore |
|     |   | 2  | I pneumatici debbono essere tenuti a bassa pressione per aumentare l'aderenza             |
|     |   | 3  | Bisogna lubrificare periodicamente il volante   |

| N.  | DOMANDA  | N.          | RISPOSTA   |
|-----|--|-------------|--|
| 366 | Se lo sterzo vibra fortemente  | 1<br>2<br>3 | 1 Può dipendere dalle ruote motrici non equilibrate<br>2 Può dipendere dalla trazione posteriore<br>3 Può dipendere dalla eccessiva pressione dei pneumatici   |
| 367 | Se si stanno eseguendo terapie con farmaci che non hanno azione sedativa                                     | 1<br>2<br>3 | 1 Non si può guidare in alcun caso<br>2 Si può guidare purché la patologia che ha dato luogo alla terapia sia compatibile con la guida<br>3 Si può guidare solo se assunti a dosaggio molto basso  |
| 368 | Chi assume o ha assunto abitualmente droghe:   | 1<br>2<br>3 | 1 Può conseguire o conservare la patente di guida limitatamente alle auto di piccola cilindrata<br>2 Può conseguire o conservare la patente previo parere favorevole della Commissione medica locale<br>3 Non può conseguire o conservare la patente di guida in nessun caso |
| 369 | Attualmente il tasso alcolico massimo ammesso per i conducenti di taxi è:                                    | 1<br>2<br>3 | 1 0,5 grammi per litro<br>2 0,0 grammi per litro<br>3 0,3 grammi per litro   |
| 370 | Chi guida un veicolo, anche se ad elevate prestazioni, deve comunque   | 1<br>2<br>3 | 1 Tenere in funzione gli abbaglianti anche di giorno<br>2 Evitare di costituire pericolo per gli altri utenti della strada<br>3 Sorpassare in ogni condizione di traffico, purché non ci sia il segnale di divieto   |
| 371 | Allorché, di notte, su strada extraurbana, incrociamo un veicolo con fari a luce abbagliante accesi, occorre | 1<br>2<br>3 | 1 Azionare le trombe bitonali per richiamare l'attenzione del veicolo incrociante<br>2 Tenere conto della ridotta visibilità nel nostro comportamento di guida<br>3 Cercare di ripararsi gli occhi con le mani   |
| 372 | Sulla stabilità del veicolo in marcia influisce positivamente  | 1<br>2<br>3 | 1 La corretta equilibratura delle ruote<br>2 La scolpitura dei pneumatici<br>3 Il tipo di motore   |
| 373 | Gli organi di sospensione elastica dei veicoli migliorano la sicurezza della circolazione perché             | 1<br>2<br>3 | 1 Rendono meno morbida la marcia<br>2 Ammortizzano gli urti contro le asperità del suolo, rendendo più confortevole e sicura la guida<br>3 Consentono alla carrozzeria di seguire le asperità del terreno  |
| 374 | La polizza di assicurazione per le responsabilità civili auto (R.C.A.) copre                                 | 1<br>2      | 1 La responsabilità civile, oltre i massimali<br>2 I danni ai trasportati  |

| N.  | DOMANDA   | N. | RISPOSTA   |
|-----|---|----|--|
|     |   | 3  | I rischi che gravano sul conducente, ma non sul proprietario del veicolo |
| 375 | La insufficiente tenuta di strada del veicolo può dipendere | 1  | Dal veicolo troppo leggero perché scarico                                |
|     |   | 2  | Dalle sospensioni non più efficienti                                     |
|     |   | 3  | Dal tipo di battistrada del pneumatico                                   |
| 376 | La insufficiente tenuta di strada del veicolo può dipendere | 1  | Dal tipo di sterzo   |
|     |   | 2  | Dalla eccessiva pressione dei pneumatici                                 |
|     |   | 3  | Dal portapacchi montato sulla vettura                                    |
| 377 | Per mantenere i freni efficienti è necessario verificare    | 1  | Frequentemente la capacità di frenatura                                  |
|     |   | 2  | La consistenza della polvere dei ferodi                                  |
|     |   | 3  | La rumorosità dei freni  |

| N.  | DOMANDA  | N. | RISPOSTA  |
|-----|--|----|---|
| 378 | Per adattarsi alle condizioni contrarie del tempo e prevenire incidenti stradali occorre | 1  | Usare preferibilmente trombe bitonali   |
|     |  | 2  | Aumentare la distanza di sicurezza dal veicolo che precede                                |
|     |  | 3  | Aumentare la velocità in modo da occupare per minor tempo la carreggiata                  |
| 379 | Se la vittima di un incidente stradale è in stato di incoscienza si deve                 | 1  | Fasciare ed immobilizzare la testa  |
|     |  | 2  | Chiedere al soggetto se avverte dolore al capo  |
|     |  | 3  | Se respira spontaneamente, porlo delicatamente in posizione laterale di sicurezza         |
| 380 | Qualora l'infortunato presenti stato di shock, occorre                                   | 1  | Porlo in posizione seduta   |
|     |  | 2  | Distenderlo con gli arti inferiori sollevati rispetto al corpo, se possibile              |
|     |  | 3  | Percuotere con garbo, ma decisamente, le guance e gli arti per riattivare la circolazione |
| 381 | Gli ammortizzatori scarichi provocano  | 1  | L'usura non uniforme del battistrada dei pneumatici                                       |
|     |  | 2  | Un anomalo funzionamento del motore   |
|     |  | 3  | Un maggior consumo di lubrificante  |
| 382 | Gli ammortizzatori scarichi provocano  | 1  | La possibile rottura delle molle delle sospensioni  |
|     |  | 2  | Un anomalo funzionamento dell'impianto elettrico  |
|     |  | 3  | Un anomalo funzionamento del motore   |
| 383 | Per controllare lo sbandamento del veicolo è opportuno                                   | 1  | Lasciare bruscamente l'acceleratore   |
|     |  | 2  | Innestare una marcia inferiore e lasciare bruscamente il pedale della frizione            |
|     |  | 3  | Lasciare, di norma, innestata la frizione   |

| N. | DOMANDA | N. | RISPOSTA |
|----|---------|----|----------|
|----|---------|----|----------|

384 Causa frequente di incidenti dovuti alle condizioni della strada può essere

- 1 Fondo ghiacciato
- 2 Presenza di pista ciclabile
- 3 Presenza di spartitraffico

385 La fermata del veicolo per la semplice salita e discesa dei passeggeri è sempre vietata

- 1 Nelle aree urbane in caso di pioggia
- 2 Nei tratti di strada dove vi sia la segnaletica orizzontale di preselezione
- 3 In seconda fila

386 In caso di strada sdrucchiolevole il conducente deve

- 1 Cercare di procedere a velocità quanto più possibile uniforme
- 2 Aumentare la velocità di marcia
- 3 Percorrere le forti discese con il cambio in folle, controllando la velocità mediante il freno

#### CONSUMI ENERGETICI

387 Per limitare i consumi di carburante

- 1 Conviene mantenere il più possibile costante la velocità
- 2 Conviene evitare percorsi pianeggianti
- 3 Si deve marciare ad un numero elevato di giri del motore

388 Per limitare i consumi di carburante

- 1 Si devono mantenere elevate velocità
- 2 Conviene ridurre il numero e l'intensità delle accelerazioni
- 3 Conviene usare carburanti più economici

389 Per limitare i consumi di carburante

- 1 Si deve usare un olio più fluido
- 2 Si deve usare benzina senza piombo
- 3 Conviene ridurre i carichi superflui

| N. | DOMANDA | N. | RISPOSTA |
|----|---------|----|----------|
|----|---------|----|----------|

**PROTEZIONE AMBIENTALE, INQUINAMENTO**

**390** Per ridurre l'inquinamento dell'aria provocato dalla circolazione dei veicoli azionati da motore a scoppio l'automobilista deve

- 1** Provvedere alla frequente revisione degli organi di sospensione
- 2** Sostituire il filtro dell'aria con la frequenza suggerita dalla casa costruttrice del veicolo
- 3** Ridurre il tempo di accensione del motore, marciando a velocità elevata nei limiti consentiti

**391** Per ridurre l'inquinamento dell'aria provocato dalla circolazione dei veicoli azionati da motore a scoppio l'automobilista deve

- 1** Marciare alle più elevate velocità di percorrenza consentite dal codice e dai segnali stradali  
  
Evitare di tenere inserito il dispositivo di avviamento a freddo (starter) oltre il tempo necessario
- 2** Evitare di tenere inserito il dispositivo di avviamento a freddo (starter) oltre il tempo necessario
- 3** Accelerare ripetutamente da fermo per tenere caldo il motore e migliorare il rendimento

**392** I veicoli da adibire a servizio pubblico da piazza (taxi) immatricolati dopo il 05/04/1993:

X

- 1** Devono essere obbligatoriamente muniti di dispositivi antinquinamento omologati
- 2** Possono essere muniti di marmitta catalitica
- 3** Non devono rispondere ad alcuna direttiva in quanto già circolanti

**393** I veicoli da adibire a servizio pubblico da piazza (taxi)

- 1** devono avere solo motore diesel
- 2** devono avere solo motore a ciclo otto (benzina)
- 3** possono avere qualsiasi tipo di propulsore meglio se ibrido per ridurre le emissioni inquinanti

**394** Per ridurre l'inquinamento provocato dai veicoli con motore diesel bisogna

- 1** Sostituire periodicamente il filtro dell'aria
- 2** Mettere l'antigelo nel circuito di raffreddamento
- 3** Marciare con frequenti frenature seguite da rapide riprese per tener pulito il collettore di scarico

| N.  | DOMANDA   | N.          | RISPOSTA  |
|-----|---|-------------|---|
| 395 | Fermi ad un semaforo in un centro urbano si può aspettare il verde spegnendo il motore: | 1<br>2<br>3 | No in ogni caso<br>Si è consentito in certi casi<br>Si solo di notte  |
| 396 | L'inquinamento atmosferico prodotto dai veicoli a motore può essere ridotto             | 1<br>2<br>3 | Circolando costantemente con marce basse<br>Disponendo i bagagli ben fissati sul tetto dell'autovettura<br>Spegnendo il motore in caso di arresto prolungato  |
| 397 | L'inquinamento atmosferico prodotto dai veicoli a motore può essere ridotto             | 1<br>2<br>3 | Limitando i consumi di carburante<br>Utilizzando costantemente il motore al regime massimo di rotazione<br>Tenendo il motore, durante le fermate, ad elevato numero di giri   |
| 398 | L'inquinamento atmosferico prodotto dai veicoli con motore a scoppio                    | 1<br>2<br>3 | Può dipendere dalla cattiva regolazione dei dispositivi di accensione<br>Scompare del tutto accelerando a fondo perché l'elevata temperatura brucia i residui incombusti<br>Diminuisce lasciando inserito il dispositivo di avviamento a freddo (starter) |
| 399 | L'inquinamento atmosferico prodotto dai veicoli con motore a scoppio                    | 1<br>2<br>3 | Non è influenzato dalla presenza del piombo nella benzina<br>Non dipende dalla regolazione degli organi di carburazione<br>Può essere ridotto facendo uso di veicoli dotati di marmitta catalitica  |
| 400 | L'inquinamento atmosferico prodotto dai veicoli con motore diesel                       | 1<br>2<br>3 | Diminuisce se si lasciano accese le candele di preriscaldamento<br>E' maggiore se il fumo di scarico presenta colore scuro<br>Non dipende dalla regolazione della pompa di iniezione  |
| 401 | L'inquinamento atmosferico prodotto dai veicoli con motore diesel                       | 1<br>2<br>3 | Può dipendere dalla regolazione della pompa di iniezione<br>Dipende dal tipo di liquido utilizzato per l'impianto di raffreddamento<br>Dipende dall'efficienza delle candele  |

| N.  | DOMANDA   | N. | RISPOSTA  |
|-----|---|----|---|
| 402 | L'inquinamento atmosferico prodotto dai veicoli con motore diesel | 1  | si riduce accelerando a folle   |
|     |   | 2  | può essere ridotto dal sistema start/stop eventualmente presente sul veicolo          |
|     |   | 3  | aumenta con l'aumentare della temperatura del motore                                  |
| 403 | L'inquinamento atmosferico prodotto dai veicoli con motore diesel | 1  | Dipende dalla regolazione del carburante  |
|     |   | 2  | Scompare completamente accelerando a fondo  |
|     |   | 3  | Aumenta con l'intasamento del filtro dell'aria  |
| 404 | Per ridurre il rumore emesso dai veicoli a motore è necessario    | 1  | Far controllare i freni, se stridono  |
|     |   | 2  | Introdurre fluido antigelo nel radiatore  |
|     |   | 3  | Eliminare la marmitta per migliorare il rendimento del motore                         |
| 405 | Per ridurre il rumore emesso dai veicoli a motore è necessario    | 1  | Che il dispositivo silenziatore applicato sull'autoveicolo sia efficiente             |
|     |   | 2  | Eliminare la marmitta per migliorare il rendimento del motore                         |
|     |   | 3  | Introdurre paglietta di ferro nella marmitta  |
| 406 | Per ridurre il rumore emesso dai veicoli a motore è necessario    | 1  | Utilizzare la tromba bitonale solo su strade di montagna                              |
|     |   | 2  | Evitare di accelerare il motore a veicolo fermo                                       |
|     |   | 3  | Modificare il dispositivo silenziatore in modo da migliorare il rendimento del motore |
| 407 | Per ridurre il rumore emesso dai veicoli a motore è necessario    | 1  | Modificare il dispositivo silenziatore in modo da migliorare il rendimento del motore |
|     |   | 2  | Sostituire la marmitta deteriorata con altra di tipo approvato per lo stesso veicolo  |
|     |   | 3  | Introdurre paglietta di ferro nella marmitta  |



| N. | DOMANDA | N. | RISPOSTA |
|----|---------|----|----------|
|----|---------|----|----------|

408 Per evitare rumori molesti durante la circolazione è opportuno o consentito

- 1 Usare i dispositivi di segnalazione acustica con la massima moderazione
- 2 Sgommare alla partenza, al verde del semaforo, per sgombrare al più presto l'incrocio
- 3 Nelle fermate per esigenze di traffico, mantenere il motore in moto accelerando ripetutamente

409 Per evitare rumori molesti durante la circolazione è opportuno o consentito

- 1 Usare il clacson per sollecitare gli altri utenti, solo nei casi di grave ingorgo
- 2 Usare particolari cautele nei centri abitati
- 3 Suonare per richiamare un altro conducente solo se ha commesso una infrazione nei nostri riguardi

410 Sono causa di rumorosità nei veicoli a motore

- 1 L'uso del servofreno
- 2 L'uso di un liquido di raffreddamento senza anticongelante
- 3 L'abuso dei dispositivi di segnalazione acustica

411 Sono causa di rumorosità nei veicoli a motore

- 1 L'uso dei freni a tamburo
- 2 Gli ammortizzatori scarichi
- 3 L'insufficiente livello del liquido nel circuito frenante

412 Sono causa di rumorosità nei veicoli a motore

- 1 L'insufficiente livello del liquido nel circuito frenante
- 2 La percorrenza delle curve a velocità che provoca lo strisciamento dei pneumatici
- 3 L'impiego di catadiottri deteriorati

| N. | DOMANDA | N. | RISPOSTA |
|----|---------|----|----------|
|----|---------|----|----------|

**UTENZA PORTATRICE DI HANDICAP**

**413** Quale organo di occupa del trasporto dei portatori di handicap?

- 1 Regione
- 2 Comune
- 3 Provincia

**414** Per il portatore di handicap è obbligatorio l'accompagnamento?

- 1 Si
- 2 No
- 3 Limitatamente

**415** Esistono convenzioni speciali per il trasporto dei portatori di handicap?

- 1 No
- 2 Si
- 3 Limitatamente

**416** Il portatore di handicap può usare il taxi per andare al cinema?

- 1 No
- 2 Si
- 3 Limitatamente

**417** Il portatore di handicap può usare il taxi per andare fuori comune?

- 1 Si
- 2 No
- 3 Limitatamente

**418** Su un taxi il trasporto di disabili per cecità accompagnati da un cane:

- 1 Non è ammesso
- 2 E' ammesso a discrezione del tassista
- 3 Deve essere comunque garantito il servizio

**419** I veicoli in servizio di taxi o di n.c.c. appositamente attrezzati per il trasporto dei disabili, devono avere in posizione visibile il simbolo di «accessibilità»?

- 1 Si
- 2 No
- 3 E' facoltativo

**420** Relativamente all'allestimento dell'autovettura per il trasporto dei portatori di handicap:

- 1 Il tassista è obbligato a provvedere all'allestimento del veicolo in modo da consentire il trasporto dei portatori di handicap
- 2 Il tassista non è obbligato a provvedere all'allestimento del veicolo in modo da consentire il trasporto dei portatori di handicap
- 3 L'obbligo esiste solo in relazione a determinate autovetture

| N. | DOMANDA | N. | RISPOSTA |
|----|---------|----|----------|
|----|---------|----|----------|

**SEGNALETICA STRADALE**

421 Il segnale n.2



- 1 Presegnala una variazione di pendenza della strada con limitata visibilità
- 2 Presegnala una strettoia
- 3 Presegnala una strada con cunette

422 Il segnale n. 2



- 1 Presegnala un dosso
- 2 Presegnala una cunetta
- 3 E' necessario prestare attenzione al tratto di strada in cattivo stato

423 Il segnale n. 1:



- 1 Presegnala un dosso seguito da una cunetta
- 2 Presegnala una strada con fondo deformato
- 3 Presegnala un doppio dosso

424 Il segnale n. 7



- 1 Presegnala un tratto di strada con una serie di dossi
- 2 Presegnala una deviazione per lavori in corso
- 3 E' un segnale di pericolo

425 In presenza del segnale n.8








- 1 E' possibile transitare tra una barra e l'altra se le semibarriere sono chiuse
- 2 E' consentito sostare
- 3 E' consentito il sorpasso, entro la semicarreggiata, per affiancarsi ai veicoli fermi in attesa

426 In presenza del segnale n.9















- 1 E' possibile attraversare i binari anche se sbarrati da cavalletti a strisce bianche e rosse
- 2 Non è consentito sostare o fermarsi in prossimità e in corrispondenza dei binari
- 3 E' necessario l'uso del segnalatore acustico prima di attraversare i binari

| N.  | DOMANDA  | N. | RISPOSTA   |
|-----|--|----|--|
| 427 | I pannelli di fig. 11abc<br>                                    | 1  | Sono posti, rispettivamente, a circa 150, 100 e 50 metri dall'attraversamento ferroviario    |
|     |  | 2  | Con due barre indicano attraversamento ferroviario con due binari                            |
|     |  | 3  | Si possono trovare solo se il passaggio a livello è con barriere o semibarriere              |
| 428 | Il segnale n.13<br>   | 1  | Comporta di dare la precedenza ai pedoni che attraversano sulle strisce                      |
|     |  | 2  | Impone di usare i segnali acustici per avvertire i pedoni                                    |
|     |  | 3  | Consente la fermata dei veicoli sulle strisce purché rimanga spazio sufficiente per i pedoni |
| 429 | In presenza del segnale n. 13 è necessario<br>                  | 1  | Dare la precedenza solo ai pedoni che attraversano da destra                                 |
|     |  | 2  | Non sorpassare i veicoli che rallentano per far attraversare i pedoni                        |
|     |  | 3  | Dare la precedenza solo ai pedoni che attraversano da sinistra                               |
| 430 | Il segnale n. 14<br>  | 1  | Segnala l'approssimarsi di luogo dal quale sboccano ciclisti sulla strada o la attraversano  |
|     |  | 2  | Presegnala l'inizio di una pista ciclabile   |
|     |  | 3  | Può indicare gare ciclistiche su strada  |
| 431 | Il segnale n.16<br>   | 1  | Presegnala un tratto di strada pericoloso per curve strette                                  |
|     |  | 2  | Presegnala una salita che comporta un pericolo   |
|     |  | 3  | Presegnala una discesa la cui pendenza è indicata sul segnale                                |
| 432 | Il segnale n. 19<br>  | 1  | Presegnala una strettoia sul lato destro della carreggiata                                   |
|     |  | 2  | Presegnala la fine del doppio senso di circolazione  |
|     |  | 3  | Presegnala sempre un senso unico alternato   |
| 433 | Il segnale n. 22, con gli opportuni pannelli integrativi,<br> | 1  | Presegnala un tratto di strada che può diventare pericoloso in particolari condizioni        |
|     |  | 2  | Presegnala una strettoia   |
|     |  | 3  | Tenere presente che in caso di pioggia lo spazio di frenatura è minore                       |
| 434 | Il segnale n.23<br>   | 1  | Vieta il transito durante l'orario di uscita dei bambini da scuola                           |
|     |  | 2  | Vieta il transito ai bambini non accompagnati  |
|     |  | 3  | Può segnalare nelle vicinanze una scuola elementare  |
| 435 | Il segnale n.26<br>   | 1  | Presegnala che il traffico si svolge su due carreggiate separate                             |
|     |  | 2  | Presegnala che la circolazione diventa a senso unico   |
|     |  | 3  | Presegnala il doppio senso di circolazione su una carreggiata normalmente a senso unico      |



| N.  | DOMANDA   | N.          | RISPOSTA  |
|-----|---|-------------|---|
| 436 | Il segnale n. 27<br>   | 1<br>2<br>3 | 1 Al prossimo incrocio, vieta la svolta a destra<br>2 Presegnala un incrocio di due o più strade extraurbane regolato con circolazione rotatoria<br>3 Regolato con circolazione rotatoria presegnala una svolta a sinistra obbligatoria |
| 437 | Il segnale n.29<br>    | 1<br>2<br>3 | 1 Consiglia di accelerare per aumentare l'aderenza dei pneumatici sull'asfalto<br>2 Preavvisa il pericolo di scoppio dei pneumatici<br>3 Presegnala un tratto di strada dove è possibile una diminuzione dell'aderenza sul terreno      |
| 438 | Il segnale n.30b<br>   | 1<br>2<br>3 | 1 Presegnala il pericolo di caduta di massi da destra<br>2 Presegnala un tratto di strada non asfaltato<br>3 Presegnala una parete rocciosa battuta da forte vento laterale   |
| 439 | Il segnale n. 31a<br>  | 1<br>2<br>3 | 1 Presegnala un impianto semaforico<br>2 Presegnala un attraversamento ferroviario senza barriere<br>3 Può presegnalare un passaggio a livello con semibarriere   |
| 440 | Il segnale n. 31a<br> | 1<br>2<br>3 | 1 Nei centri abitati equivale al segnale di indicazione PREAVVISO DI SEMAFORO<br>2 Preavvisa la presenza di un segnale di STOP<br>3 Presegnala la presenza di un ponte mobile   |









| N.  | DOMANDA   | N.          | RISPOSTA  |
|-----|---|-------------|---|
| 441 | Il segnale n.32<br>    | 1<br>2<br>3 | Presegnala la possibilità di un improvviso abbassamento dovuto ad aeromobili a bassa quota<br>Vieta l'accesso negli aeroporti<br>Presegnala un insieme pericoloso di incroci stradali   |
| 442 | Il segnale n. 37<br>   | 1<br>2<br>3 | Impone di arrestarsi perché il transito è vietato<br>Obbliga ad arrestarsi soltanto in caso di incrocio con altri veicoli<br>Obbliga a fermarsi all'incrocio in corrispondenza della striscia trasversale di arresto                                      |
| 443 | Il segnale n. 37<br>   | 1<br>2<br>3 | Viene posto nella strada che gode del diritto di precedenza<br>E' utilizzato nelle intersezioni di particolare pericolosità<br>Obbliga ad arrestarsi al varco doganale  |
| 444 | Il segnale n. 37<br>   | 1<br>2<br>3 | Indica l'obbligo di arresto ad un posto di blocco istituito dagli organi di polizia<br>Prescrive l'obbligo di fermarsi e di dare la precedenza nei sensi unici alternati<br>Si può trovare all'incrocio con una strada che gode del diritto di precedenza |
| 445 | Il segnale n. 37<br> | 1<br>2<br>3 | E' posto di norma 150 metri prima dello incrocio<br>Obbliga ad arrestarsi per dare la precedenza solo ai veicoli provenienti da destra<br>Obbliga ad arrestarsi in ogni caso in corrispondenza dell'incrocio e dare la precedenza                         |
| 446 | Il segnale n. 40<br> | 1<br>2<br>3 | Prescrive di procedere a velocità particolarmente moderata<br>Può precedere il segnale di STOP<br>Si trova, di norma, a non più di 50 m dall'incrocio   |
| 447 | Il segnale n.40<br>  | 1<br>2<br>3 | Può presegnalare un passaggio a livello custodito con barriere<br>Può precedere il segnale DARE PRECEDENZA<br>Presegnala un incrocio in cui vige la regola generale di dare la precedenza a destra  |
| 448 | Il segnale n. 41<br> | 1<br>2<br>3 | Indica il diritto di precedenza nei sensi unici alternati<br>Impone, nelle strettoie, di dare precedenza i veicoli provenienti dal senso opposto<br>Su una carreggiata a senso unico, indica l'inizio del doppio senso di circolazione                    |





| N.  | DOMANDA   | N. | RISPOSTA  |
|-----|---|----|---|
| 449 | Il segnale n. 42  |    |   |
|     |    |    | <ol style="list-style-type: none"> <li>1 Può essere seguito dal segnale di FERMARSI E DARE PRECEDENZA</li> <li>2 Impone l'arresto all'incrocio</li> <li>3 Indica l'andamento della strada principale</li> </ol>   |
| 450 | Il segnale n. 43a   |    |   |
|     |    |    | <ol style="list-style-type: none"> <li>1 Indica che bisogna rallentare per accertare che ci venga data la precedenza</li> <li>2 Indica incrocio con precedenza rispetto ai soli veicoli provenienti da sinistra</li> <li>3 E' posto sulle autostrade</li> </ol>       |
| 451 | Il segnale n.43d  |    |   |
|     |    |    | <ol style="list-style-type: none"> <li>1 Indica che abbiamo precedenza sui veicoli che si immettono da destra</li> <li>2 Viene posto su strada secondaria che non gode del diritto di precedenza</li> <li>3 Può precedere il segnale di dare precedenza</li> </ol>    |
| 452 | Il segnale n. 46  |    |   |
|     |    |    | <ol style="list-style-type: none"> <li>1 Preavvisa una strada a senso unico</li> <li>2 Consente l'accesso ai ciclisti</li> <li>3 Consente il transito dei pedoni</li> </ol>   |
| 453 | Il segnale n. 47  |    |   |
|     |   |    | <ol style="list-style-type: none"> <li>1 Permette la circolazione a senso unico</li> <li>2 E' posto su una carreggiata a doppio senso di circolazione</li> <li>3 Vieta la sosta, ma non la fermata</li> </ol>   |
| 454 | Il segnale n. 48  |    |   |
|     |  |    | <ol style="list-style-type: none"> <li>1 Consente ad un'autovettura di sorpassare un motociclo</li> <li>2 Consente la marcia di autovetture per file parallele</li> <li>3 Vieta il sorpasso tra autovetture solo se deve essere valicata la linea continua</li> </ol> |

| N.  | DOMANDA  | N.  | RISPOSTA  |
|-----|--|---|---|
| 455 | Il segnale n. 48   |    | <ol style="list-style-type: none"> <li>1 Vieta il sorpasso fra autoveicoli anche se la manovra può compiersi entro la semicarreggiata</li> <li>2 Indica che la corsia di destra è riservata ai veicoli lenti</li> <li>3 Si trova solo sulle strade extraurbane</li> </ol>   |
| 456 | In presenza del segnale di DIVIETO DI SORPASSO (fig.48), si possono sorpassare |    | <ol style="list-style-type: none"> <li>1 I calessi a due ruote</li> <li>2 I carrelli</li> <li>3 I veicoli a motore che procedono troppo lentamente</li> </ol>   |
| 457 | In presenza del segnale di DIVIETO DI SORPASSO (fig.48), si possono sorpassare |    | <ol style="list-style-type: none"> <li>1 I veicoli sprovvisti di motore</li> <li>2 I quadricicli a motore</li> <li>3 Le macchine agricole</li> </ol>  |
| 458 | Il segnale n. 49   |    | <ol style="list-style-type: none"> <li>1 Obbliga i veicoli a marciare a meno di 70 metri di distanza l'uno dall'altro</li> <li>2 Prescrive di accostarsi al veicolo che precede lasciando libero uno spazio inferiore a 70 m</li> <li>3 Vieta di seguire il veicolo che precede a una distanza inferiore a quella indicata</li> </ol> |
| 459 | Il segnale n.49  |  | <ol style="list-style-type: none"> <li>1 Obbliga a rispettare il distanziamento minimo indicato</li> <li>2 Preavvisa che a 70 metri inizia il divieto di transito per le autovetture</li> <li>3 Obbliga un veicolo a distanziare quello che lo segue di almeno 70 metri</li> </ol>  |
| 460 | Il segnale n.51  |  | <ol style="list-style-type: none"> <li>1 Indica un divieto che può non essere osservato da chi trasporta feriti o ammalati gravi</li> <li>2 Prescrive l'obbligo di arresto all'incrocio su strade di montagna con autobus di linea</li> <li>3 Obbliga ad usare il clacson ogni qualvolta le circostanze lo consigliano</li> </ol>     |









| N.  | DOMANDA   | N.                  | RISPOSTA   |
|-----|---|---------------------|--|
| 461 | Il segnale n.52<br>    | 1<br><br>2<br><br>3 | E' un divieto di sorpasso per i veicoli superiori a 3,5 ton. non destinati al trasporto di persone<br><br>Consente ad un autocarro di massa a pieno carico superiore a 3,5 ton. di sorpassare un motociclo<br><br>Vieta ad un autobus di 12 ton. di sorpassare un autotreno      |
| 462 | Il segnale n.52<br>    | 1<br><br>2<br><br>3 | Consente ad un autocarro di massa complessiva pari a 3,5 ton. di sorpassare un autoarticolato<br><br>Consente alle autovetture di sorpassare gli autocarri sulla corsia di destra<br><br>Fa riferimento alla massa del veicolo comprensiva del carico effettivamente trasportato |
| 463 | Il segnale n.53<br>    | 1<br><br>2<br><br>3 | Nei centri abitati vige dalle ore 8 alle 20<br><br>Consente il transito ai veicoli a trazione animale muniti di pneumatici<br><br>Vieta la circolazione alle carrozze a cavalli  |
| 464 | Il segnale n.54<br>    | 1<br><br>2<br><br>3 | Vieta il transito ai pedoni<br><br>Obbliga a dare la precedenza ai pedoni<br><br>Indica un'area urbana riservata a parco giochi e divertimenti   |
| 465 | Il segnale n.55<br>  | 1<br><br>2<br><br>3 | Vieta il transito ai motocicli<br><br>Consente il transito delle biciclette nelle ore notturne<br><br>Consente il transito ai quadricicli a motore   |
| 466 | Il segnale n.56<br>  | 1<br><br>2<br><br>3 | E' un divieto di circolazione per motociclisti<br><br>Consente il transito ai motociclisti con il casco<br><br>Si riferisce ai soli motocicli di cilindrata superiore ai 125 cm3   |
| 467 | Il segnale n. 57<br> | 1<br><br>2<br><br>3 | Vieta il transito di veicoli a trazione animale<br><br>Impone il divieto di transito ai conducenti di veicoli a braccia<br><br>Vale solo durante le ore di mercato   |
| 468 |                      | 1<br><br>2<br><br>3 | Vieta il transito alle motocarrozze<br><br>Non si applica ai taxi<br><br>Vieta il transito alle sole autovetture   |




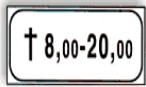
| N.  | DOMANDA   | N. | RISPOSTA   |
|-----|---|----|--|
| 469 | Il nuovo segnale n. 58<br> | 1  | Vieta il transito a tutti gli autoveicoli  |
| 2   |   | 3  | Permette il transito a tutti i motoveicoli   |
| 470 | Il segnale n. 59<br>       | 1  | Indica il divieto di transito agli autobus   |
| 2   |   | 3  | Consente il transito agli scuolabus  |
| 471 | Il segnale n.60a<br>       | 1  | Vieta il transito ai veicoli merci con massa a pieno carico superiore a 3,5 ton.                 |
| 2   | Consente il transito ad un autocarro con tara di 3 ton. e portata di 2 ton. che viaggia scarico             | 3  | Vieta il transito ai veicoli di massa superiore a 3,5 ton. destinati al trasporto di persone     |
| 472 | Il segnale n.60a<br>       | 1  | Vieta il transito a tutti gli autocarri carrozzati con furgone chiuso                            |
| 2   | Può essere munito di pannello integrativo con un diverso valore nella massa consentita al transito          | 3  | Consente il transito a tutti gli autocarri carrozzati con cassettone aperto                      |
| 473 | Il segnale n.60b<br>     | 1  | Indica la massa complessiva consentita al transito degli autoveicoli per trasporto di cose       |
| 2   | Vieta il transito di autobus di massa complessiva superiore a 10 ton.                                       | 3  | Consente il transito di un autocarro da 4 ton. che traina un rimorchio da 4 ton.                 |
| 474 | Il segnale n.65<br>      | 1  | Indica la distanza minima di sicurezza tra due autoveicoli in transito su quella strada          |
| 2   | Non si riferisce ai veicoli a trazione animale  | 3  | Si riferisce ai veicoli anche se sprovvisti di motore  |
| 475 | Il segnale n.68<br>      | 1  | Vieta il transito ai veicoli aventi una massa superiore a quella indicata                        |
| 2   | Nei centri abitati vale solo dalle ore 8 alle ore 22  | 3  | Vieta il transito ai veicoli aventi sull'asse più caricato una massa superiore a quella indicata |
| 476 | Il segnale n.69<br>      | 1  | Obbliga i veicoli aventi massa per asse superiore a 6,5 ton. a procedere a passo d'uomo          |
| 2   | Vieta il transito ai veicoli aventi una massa per asse superiore a 6,5 ton.                                 | 3  | Vale solo per autoveicoli con ruote gemellate  |

| N.  | DOMANDA   | N. | RISPOSTA   |
|-----|---|----|--|
| 477 | Il segnale n.70<br>  | 1  | Indica la fine delle prescrizioni precedentemente imposte  |
|     |   | 2  | Può indicare la fine di un cantiere di lavoro  |
|     |   | 3  | Può indicare la fine di un centro abitato  |
| 478 | Il segnale n.71<br>  | 1  | Indica la fine del limite massimo di velocità  |
|     |   | 2  | Vieta il transito ai veicoli che superano la velocità di 50 km/h                                   |
|     |   | 3  | Indica la fine dell'obbligo di mantenere una distanza di sicurezza di almeno 50 metri              |
| 479 | Il segnale n. 74<br> | 1  | Vieta la sosta, ma non la fermata  |
|     |   | 2  | Indica che la sosta è regolamentata mediante disco orario  |
|     |   | 3  | Nei centri urbani prescrive il divieto di sosta dalle ore 22 alle ore 8, salvo diversa indicazione |
| 480 | Il segnale n. 74<br> | 1  | Consente la sosta soltanto ai veicoli a due ruote  |
|     |   | 2  | Con pannello integrativo può vietare la sosta solo in alcuni giorni della settimana                |
|     |   | 3  | Consente la sosta a veicoli della polizia, purché non rechi pericolo o intralcio alla circolazione |

| N.  | DOMANDA   | N. | RISPOSTA   |
|-----|---|----|--|
| 481 | Il segnale n. 74  |    |  |
|     |    |    | <ol style="list-style-type: none"> <li>1 Indica che la sosta è regolamentata mediante disco orario</li> <li>2 Nelle strade extraurbane, consente la sosta dopo le ore 20</li> <li>3 Lungo strade extraurbane indica divieto permanente di sosta in assenza di indicazioni integrative</li> </ol>         |
| 482 | Il segnale n. 75  |    |  |
|     |    |    | <ol style="list-style-type: none"> <li>1 Vieta la fermata, ma consente la sosta</li> <li>2 In assenza di iscrizioni integrative il divieto è permanente</li> <li>3 E' un preavviso di divieto di sosta</li> </ol>  |
| 483 | Il segnale n.75   |    |  |
|     |    |    | <ol style="list-style-type: none"> <li>1 Vieta la fermata nel tratto precedente, se integrato con pannello con freccia verso il basso</li> <li>2 Vale solo nei giorni feriali, salvo diversa indicazione</li> <li>3 Consente la fermata del veicolo per la salita e la discesa dei passeggeri</li> </ol> |
| 484 | Il segnale n. 78  |    |  |
|     |   |    | <ol style="list-style-type: none"> <li>1 Vieta la sosta nel luogo dove è posto</li> <li>2 Vale solo nelle ore diurne</li> <li>3 Vale solo nelle ore notturne</li> </ol>  |
| 485 | Il segnale n.80a  |    |  |
|     |  |    | <ol style="list-style-type: none"> <li>1 Indica l'inizio del senso unico di circolazione</li> <li>2 Indica la fine del doppio senso di circolazione</li> <li>3 Non consente la svolta a sinistra</li> </ol>  |
| 486 | Il segnale n. 80e   |    |  |
|     |  |    | <ol style="list-style-type: none"> <li>1 Preavvisa che non è consentito proseguire diritto</li> <li>2 Preavvisa un senso unico</li> <li>3 E' un segnale di indicazione</li> </ol>  |
| 487 | Il segnale n.81a  |    |  |
|     |  |    | <ol style="list-style-type: none"> <li>1 Indica la facoltà di passare a destra o a sinistra di un'isola spartitraffico</li> <li>2 Indica il passaggio consentito alla destra ed alla sinistra di un ostacolo</li> <li>3 E' un segnale di prescrizione</li> </ol>   |

| N.  | DOMANDA  | N. | RISPOSTA  |
|-----|--|----|---|
| 488 | Il segnale n. 81a<br>           | 1  | Indica l'impossibilità di proseguire dritto                                       |
|     |  | 2  | Indica di disporsi su due file per proseguire dritto                              |
|     |  | 3  | Indica l'inizio della circolazione per file parallele                             |
| 489 | Il segnale n.81c<br>            | 1  | E' un segnale di divieto  |
|     |  | 2  | Preavvisa un prossimo semaforo con svolta a sinistra consentita                   |
|     |  | 3  | Si trova anche fuori dei centri abitati   |
| 490 | Il segnale n. 81c significa<br> | 1  | Che non è consentito svoltare a destra  |
|     |  | 2  | Che è obbligatorio svoltare unicamente a sinistra                                 |
|     |  | 3  | Che si sta incrociando una biforcazione pericolosa                                |
| 491 | Il segnale n. 82a<br>           | 1  | Obbligo di svoltare a sinistra  |
|     |  | 2  | Passaggio obbligatorio a sinistra   |
|     |  | 3  | Che bisogna superare il salvagente lasciandolo alla propria sinistra              |
| 492 | Il segnale n. 85<br>           | 1  | Prescrive un limite minimo di velocità  |
|     |  | 2  | Indica il divieto di transito ai veicoli con massa complessiva superiore a 30 t   |
|     |  | 3  | Vieta il transito ai veicoli che circolano a velocità superiore a quella indicata |
| 493 | Il segnale n. 92a<br>         | 1  | Indica un percorso promiscuo pedonale e ciclabile                                 |
|     |  | 2  | Indica un percorso ciclabile affiancato ad un percorso pedonale                   |
|     |  | 3  | Indica l'obbligo di parcheggiare la bicicletta e proseguire a piedi               |
| 494 | Il segnale n.93a<br>          | 1  | Indica la fine del percorso promiscuo pedonale e ciclabile                        |
|     |  | 2  | Indica la fine dell'area riservata promiscuamente ai pedoni ed ai velocipedi      |
|     |  | 3  | Indica la fine della pista ciclabile affiancata al marciapiede                    |

| N.  | DOMANDA   | N.          | RISPOSTA   |
|-----|---|-------------|--|
| 495 | Il segnale n.98<br>            | 1<br>2<br>3 | 1 Segnala una stazione autostradale alla quale è obbligatorio fermarsi<br>2 Situato a distanza opportuna dal posto di blocco, è ripetuto all'altezza del punto di arresto<br>3 Impone di fermarsi e dare precedenza ai mezzi della polizia                   |
| 496 | Il segnale n.99<br>            | 1<br>2<br>3 | 1 Segnala la presenza di un comando stazione carabinieri, con posto di blocco<br>2 Obbliga ad arrestarsi all'accesso autostradale<br>3 Vieta la circolazione a tutti i veicoli nell'area della stazione ferroviaria  |
| 497 | Il segnale n.311<br>           | 1<br>2<br>3 | 1 Non vieta la sosta dei veicoli nella strada a destra<br>2 Vieta la manovra di inversione di marcia sulla strada laterale<br>3 Presegnala i lavori in corso in fondo alla strada a destra   |
| 498 | Il segnale n. 312<br>         | 1<br>2<br>3 | 1 Obbliga a mantenere una velocità non inferiore a 60 km/h<br>2 Indica la velocità che si consiglia di non superare in condizioni ottimali di traffico<br>3 Vieta la circolazione ai veicoli che sviluppano una velocità massima inferiore a quella indicata |
| 499 | Il segnale n. 316<br>        | 1<br>2<br>3 | 1 Ricorda il divieto di sorpasso tra veicoli<br>2 Ricorda di spegnere il motore in caso di arresto prolungato in galleria<br>3 Consente l'inversione di marcia solo se la galleria è a doppio senso di circolazione  |
| 500 | Il segnale n. 375 indica<br> | 1<br>2<br>3 | 1 L'area delimitata riservata al posteggio dei taxi<br>2 Autorimessa riservata ai taxi<br>3 Una corsia di marcia riservata ai taxi   |

| N.  | DOMANDA   | N.          | RISPOSTA  |
|-----|---|-------------|---|
| 501 | Il segnale n. 375 indica<br>   | 1<br>2<br>3 | La presenza nelle vicinanze di un telefono per chiamata taxi<br>Un parcheggio riservato ad autovetture in servizio pubblico<br>Che la vettura su cui è posto è in servizio pubblico   |
| 502 | Il segnale mod.II 6a<br>   | 1<br>2<br>3 | Preavvisa la presenza di un'isola pedonale dipinta sulla pavimentazione<br>Preavvisa un restringimento della carreggiata segnalato con segni orizzontali<br>Preavvisa della temporanea mancanza della segnaletica orizzontale                     |
| 503 | Il pannello integrativo mod.II 6b<br>                                    | 1<br>2<br>3 | Indica il rallentamento della circolazione dovuto ad incidente<br>Indica il punto ove è posta la chiamata d'emergenza SOS<br>Preavvisa la presenza di un deposito per veicoli incidentati   |
| 504 | Il pannello integrativo mod.II 6e può indicare<br>                       | 1<br>2<br>3 | Una strada presso un canale che, in caso di pioggia intensa, può straripare allagando la strada<br>La denominazione di un fiume in corrispondenza di un ponte che lo attraversa<br>Una strada a tre corsie con una serie di curve in progressione |
| 505 | Il pannello integrativo mod.II 3c posto sotto al divieto di sosta:<br> | 1<br>2<br>3 | Indica che la sosta è vietata in prossimità di una chiesa<br>Indica che la sosta è consentita dalle 8,00 alle 20,00 vicino ad una chiesa<br>Vieta la sosta nei giorni festivi dalle 8,00 alle 20,00   |
| 506 | Un parcheggio autorizzato   | 1<br>2<br>3 | E' delimitato da strisce verdi qualora sia custodito giorno e notte<br>Non consente la sosta ai privati se delimitato da strisce azzurre<br>E' delimitato da strisce gialle qualora sia riservato ai taxi   |
| 507 | Un parcheggio autorizzato   | 1<br>2<br>3 | E' delimitato da strisce gialle, se a pagamento<br>Comporta il dovere di parcheggiare il veicolo negli appositi spazi segnati<br>Se delimitato da strisce azzurre consente la sosta solo ai taxi  |